

165



**Практическое задание №1**  
Изготовление блока «Римские полоски» в технике лоскутного шитья



Необходимые материалы: х/б ткань размером 600×50 мм 4 цветов, нитки в тон.

Описание операции	Графическое изображение
<p>1. Из каждой ткани четырех цветов выкроить полосу размером 45×545мм.</p> <p>2. Сложить 2 полоски лицевой стороной внутрь, по длинной стороне сколоть булавками, стачать шириной шва 7 мм. Пригачать последовательно еще 2 полоски. Припуски на швы заутюжить в одну сторону.</p>	

**Муниципальный этап всероссийской олимпиады школьников по технологии (девочки)  
Ханты-Мансийский автономный округ – Югра, 2017-2018 учебный год  
Олимпиадные задания, 7 класс**

3. Разрезать заготовку на 4 равные части (должно получиться 4 квадрата 136×136мм ±2мм).	
4. Собрать блок по схеме (сшить квадраты попарно в горизонтальные ряды, затем объединить их в общий блок)	
5. Выполнить окончательную ВТО образца	

**Карта послеоперационного контроля  
Изготовление блока «Римские полосы» в технике лоскутного шитья**

№	Критерии оценки	Баллы max	Баллы факт
1	Точность края	5	5
2	Ширина припусков 7 мм	2	2
3	Ширина полосок в готовом виде 30±1 мм	3	2
4	Припуски заутюжены в одном направлении	2	2
5	Блок собран по схеме	2	2
6	Точность сборки блока (фрагменты состыкованы в центре)	4	1
7	Качество окончательной влажно-тепловой обработки (да/нет)	1	1
8	Соблюдение безопасных приемов труда (да/нет)	1	1
	Итого	20	16

**Практическое задание №2**

**Моделирование фартука по эскизу и подготовка выкройки к раскрою**

**Порядок выполнения работы**

1. На основу чертежа фартука нанесите линии фасона. Выполните моделирование.
2. Изготовьте из цветной бумаги лекала для раскладки на ткани.
3. Нанесите на лекала необходимые надписи для раскроя.

Эскиз



Описание модели

Фартук выполнен из х/б ткани, фиксируется на талии притачным поясом. Застежка на липучку.  
На переднике 2 накладных кармана, небольшая сборка по верхнему срезу, нижние углы немного закруглены и украшены оборкой.  
Нагрудник квадратной формы.  
Фартук завязывается на бретели бантом, бретели украшены оборкой.  
Пояс, бретели, карманы и оборка передника выполнены из контрастной ткани.

**Карта послеоперационного контроля**

№	Критерии оценки	Баллы max	Баллы факт
<b>Нанесение новых линий фасона</b>			
1	Оформлен нижний угол передника	2	2
2	Оформлена линия пояса	2	2
3	Оформлена линия кармана	2	2
4	Добавлена длина бретели	2	0
5	Намечено место расположения кармана	1	1
<b>Подготовка выкроек к раскрою и нанесение надписей на чертеже основы</b>			
6	Построена оборка передника	2	2
7	Построена оборка бретели	2	2
8	Указаны названия деталей	1	1
9	Указано количество деталей	2	2
10	Указано направление долевой нити, сгиба	1	1
11	Указана величина припусков на швы	1	1
12	Чистота выполнения задания	2	1
	Итого	20	17





ВСЕРОССИЙСКАЯ ОЛИМПИАДА ШКОЛЬНИКОВ 2017/2018 гг.

МУНИЦИПАЛЬНЫЙ ЭТАП

ТЕХНОЛОГИЯ

КУЛЬТУРА ДОМА И ДЕКОРАТИВНО-ПРИКЛАДНОЕ ТВОРЧЕСТВО

Шифр участника 7 КЛАСС  
7Д09

Уважаемый участник!

Теоретические задания первого тура состоят из 20 заданий, в которых предложены тесты с одним или несколькими правильными ответами. Также предложены теоретические вопросы, на которые следует дать исчерпывающий ответ и творческое задание.

Задача участника: внимательно ознакомиться с предложенными заданиями и выполнить их в строгом соответствии с формулировкой.

Каждый правильный ответ в заданиях с 1 по 19 оценивается в 1 балл.

Задание 20 оценивается в 6 баллов.

Всего за теоретический тур максимальное количество баллов, которое может набрать участник, составляет 25 баллов.





Длительность 1-го тура (теоретического) составляет 1,5 часа (90 минут).

**Кулинария**

1. Какой прибор необходимо выбрать, чтобы заварить кофе во французском прессе?

(а)	(б)	<input checked="" type="radio"/> (в)	(г)
			

2. Семья собралась перекусить. Мама для всех сделала его любимый бутерброд. Раздай бутерброды, если папа любит закрытый бутерброд, мама – открытый простой бутерброд, сын – открытый сложный бутерброд, дочь – закусочный.

(1) папа	(2) мама	(3) сын	(4) дочь
А) 	Б) 	В) 	Г) 

Ответ: 1 - в, 2 - а, 3 - б, 4 - в.

3. Чай получится вкуснее, если....

- а) заваривать в железном чайнике
- б) использовать жесткую воду
- в) использовать мягкую воду
- г) заваривать в глиняном чайнике

4. Какие овощи относятся к десертной группе овощей:

- а) кольраби
- б) ревеня
- в) батат
- г) свекла

5. Овощи при огневой сушке не изменяют цвет?

- а) верно
- б) неверно

6. Сколько необходимо взять жидкости на 100 г манной крупы, чтобы получилась жидкая манная каша?

- а) 200 мл
- б) 570 мл
- в) 1000мл
- г) 100 мл

**Свойства текстильных материалов**

7. Соотнесите название ткани и ее описание:

1 - Льянная ткань	А - Особенностью этой ткани является наличие длинного нитяного ворса на одной или двух сторонах полотна. Этот ворс образуется с помощью вытягивания на поверхность
-------------------	--


**Муниципальный этап всероссийской олимпиады школьников по технологии (девочки)  
Ханты-Мансийский автономный округ – Югра, 2017-2018 учебный год  
Олимпиадные задания, 7 класс**

	петель из неплотно натянутой нити основы. Петли могут быть неразрезными, стриженными и даже образовывать рельефный орнамент. Из ткани изготавливают домашние халаты и полотенца.
2 - Шотландка	Б - Ткань из хлопка, на лицевой стороне которой видны прямые рубчики по всей длине отрезка, параллельные кромке.
3 - Фланель	В - Натуральная ткань имеет сероватый оттенок, который исчезает при воздействии влаги и солнечных лучей. По старинной технологии для отбеливания новые полотна расстилали так, чтобы их достаточно долгое время смачивала роса, затем высушивало солнце.
4 – Махровая ткань	Г - Мягкая ткань с начесом, сделанная из хлопка, шерсти или полушерсти. Хорошо сохраняет тепло, обладает потрясающей гигроскопичностью. Материал имеет разное назначение: от домашней одежды для взрослых и детей до пеленок.
5 - Вельвет	Д - Ткань в клеточку, чье название прямо указывает на страну ее происхождения. Изготавливается способом саржевого переплетения из заранее окрашенных нитей, располагающихся крестообразно. Цвета и сложность узора прямо указывали на статус человека.

Ответ: 1 – «в», 2 – «г», 3 – «л», 4 – «а», 5 – «б».

**8. Терморегулятор утюга установлен в определенное положение (см. рисунок). Можно ли в этом положении утюжить льняную скатерть? Поясните ответ.**

Я считаю что нет, потому что  
льняная ткань садит.



### **Швейная машина**

**9. Укажите правильную последовательность операций при заправке шпульного колпачка:**


- поместите шпульку в шпульный колпачок;
- протяните нить под пружиной натяжения и выведите в отверстие колпачка;
- вытяните нить сквозь щель шпульного колпачка;
- оставьте около 10 см свободной нити.

Ответ: 1 – «б», 2 – «в», 3 – «а», 4 – «г».

10. В каких случаях используется двойная игла?

Ответ: ,

Двойная строчка



### Конструирование и моделирование швейных изделий

11. Как называется операция переноса нагрудной вытачки? \_\_\_\_\_

12. Почему чертеж строят на одну половину фигуры?

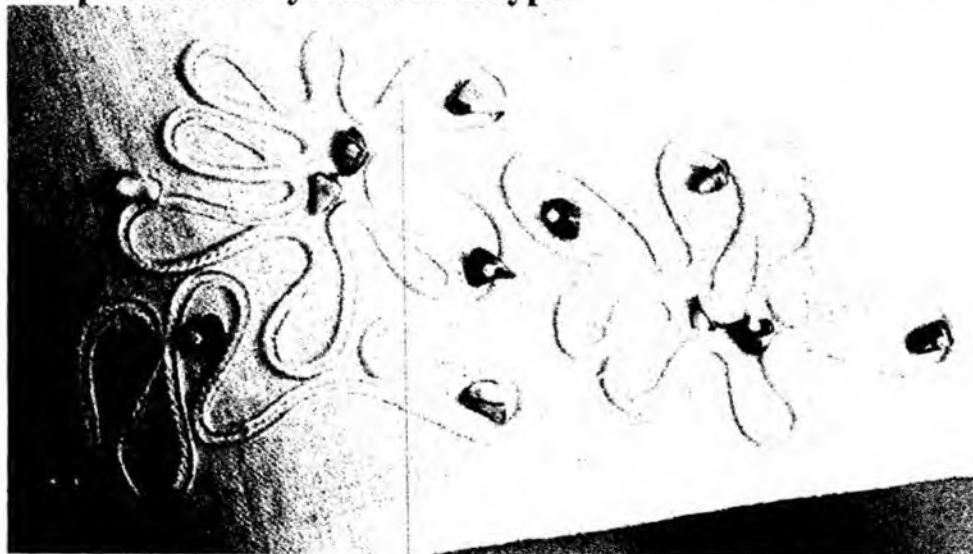
Ответ: чтобы увидеть все фасонные

швы



### Технология изготовления швейных изделий

13. Очень часто швейные изделия декорируются сутажем. Предложите способы настрачивания сутажного шнура.



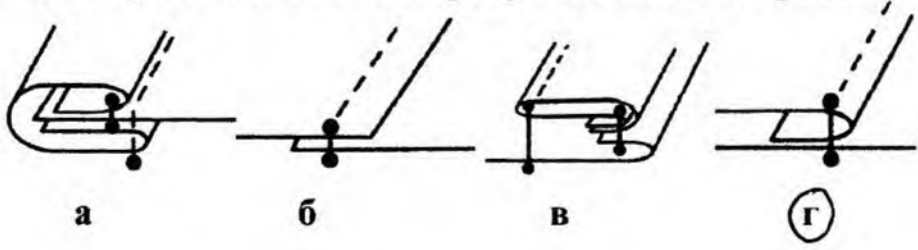
Ответ:

1 способ прострочить ровно по-середине на кайму

2 способ \_\_\_\_\_

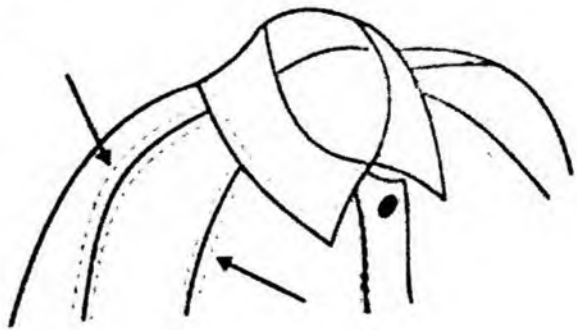


14. Из представленных на рисунке швов выберите соединительные швы:



15. Прокладывание машинных строчек на деталях для закрепления припусков шва, направленных в противоположные стороны, называется


шов в разутюжку



*История костюма*

16. Установите соответствие внешнего вида изделия его названию (худи, водолазка, свитшот, пуловер, кардиган, джемпер):

Муниципальный этап всероссийской олимпиады школьников по технологии (девочки)  
Ханты-Мансийский автономный округ – Югра, 2017-2018 учебный год  
Олимпиадные задания, 7 класс



1 - джерси ; 2 - свитшот ; 3 - жуди ;



4 - кардиган ; 5 - пуловер ; 6 - тополозия .

17. Что явилось прототипом представленного на рисунке жакета:

- а – польский контуш,
- б – гусарский ментик,
- в – казацкий чекмень,
- г – кавказский архалук,
- д – гренадерский мундир?



*Технологии домашнего хозяйства*

18. В жилом помещении поклеены обои фиолетового оттенка, ковёр на полу синего цвета и портьеры жёлтого оттенка. Какие элементы интерьера сочетаются по цветовой гамме?

- а) Ковёр и обои
- б) Ковёр и портьеры
- в)  Обои и портьеры
- г) Ковёр, обои и портьеры

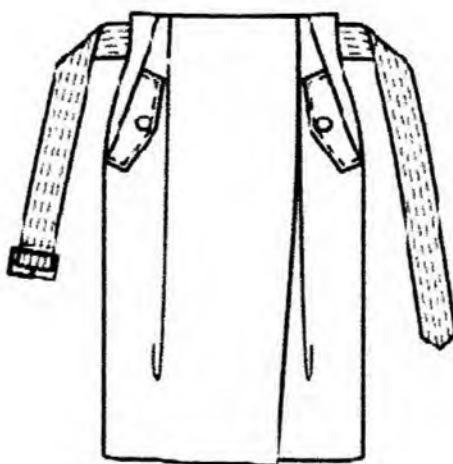
19. По описанию определи, о каком виде обоев идёт речь. Напиши название.

- а. Натуральный материал. Выраженная текстура. Оттенки коричневого, бежевого, песочного, золотистого. Долговечность. Толщина составляет около 2 мм. Высокие теплоизоляционные, звукоизоляционные свойства: мохляк
- б. Заготовки в виде стеклянных кубиков. Тянут тонкие нити. Полотно. Стеклоткань. Добавки на основе крахмала: для шпона шпона шпир не брызгли
- в. Основной компонент целлюлоза. Декоративные волокна. Блёстки. Не имеют стыков. Срок службы 6-8 лет. Необычная рельефная структура: шелководящие
- г. Натуральный материал: шелк, лен, хлопок, джут, велюр. Бумажная или флизелиновая основа. Используют в интерьерах в восточном стиле. Бесшовное покрытие. Низкая устойчивость к пыли, грязи, запахам, влаги и воздействию домашних животных: \_\_\_\_\_

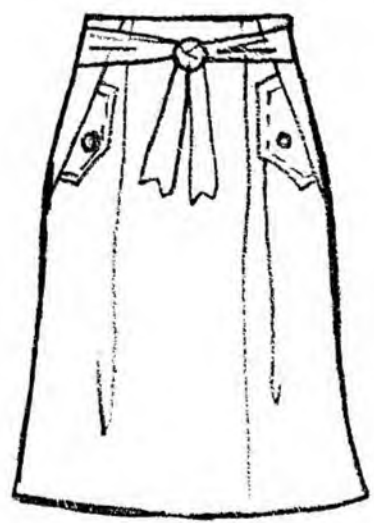
20. Творческое задание:

Ваша подружка купила новую юбку, но не знает, с чем ее надеть. Помогите подружке – нарисуйте эскиз плечевого изделия, подходящего к юбке на рисунке на 8 странице. Поясните свое решение.

Я выбрала именно это плечевое изделие, потому что  
у этого плечевого изделия есть поясочки, рюшечки  
они будут сочетаться с рюшечкой на юбке



Эскиз юбки



2

Эскиз плечевого изделия




0

Шифр участника ТБ-11 14

**Практическое задание №1**



**Изготовление блока «Шахматка» в технике лоскутного шитья**



Необходимые материалы: х/б ткань размером 500\*100 мм - 2 цвета, нитки в тон.

Описание операции	Графическое изображение
1. Из каждой ткани выкроить полосу размером 60*480мм.	
2. Сложить полоски лицевой стороной внутрь, по длинной стороне сколоть булавками, стачать шириной шва 7 мм. Припуски на швы заутюжить в одну сторону.	
3. Разрезать заготовку на 8 равных частей.	
4. Собрать 4 фрагмента по схеме	

Шифр участника ТФ-21

	
5. Собрать фрагменты в блок (сшить фрагменты попарно в горизонтальные ряды, затем объединить их в общий блок)	
6. Выполнить окончательную ВТО образца	

**Карта послеоперационного контроля  
Изготовление блока «Шахматка» в технике лоскутного шитья**

№	Критерии оценки	Баллы max	Баллы факт
1	Точность кроя	5	4
2	Ширина припусков 7 мм	2	1
3	Ширина квадратов в готовом виде 45±1 мм	3	1
4	Припуски заутюжены в одном направлении	2	1
5	Блок собран по схеме	2	2
6	Точность сборки (состыковка швов)	4	3
7	Качество окончательной влажно-тепловой обработки (да/нет)	1	1
8	Соблюдение безопасных приемов труда (да/нет)	1	1
	Итого	20	14

Шифр участника ТЖ - 21

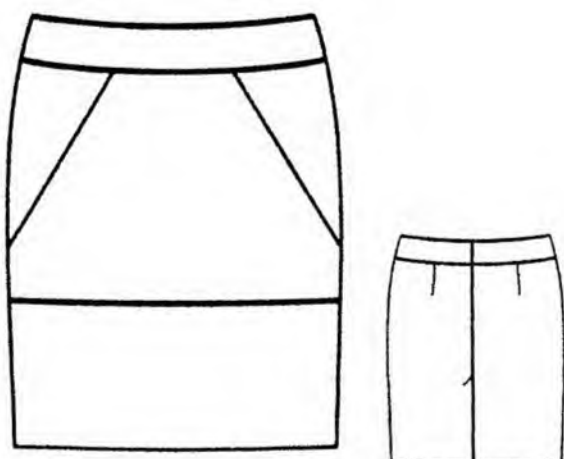
### **Практическое задание №2**

#### **Моделирование поясного изделия по эскизу и подготовка выкройки к раскрою**

#### **Порядок выполнения работы**

1. На основу чертежа поясного изделия нанесите линии фасона. Выполните моделирование.
2. Изготовьте из цветной бумаги лекала для раскладки на ткани.
3. Нанесите на лекала необходимые надписи для раскроя.

Эскиз



Описание модели

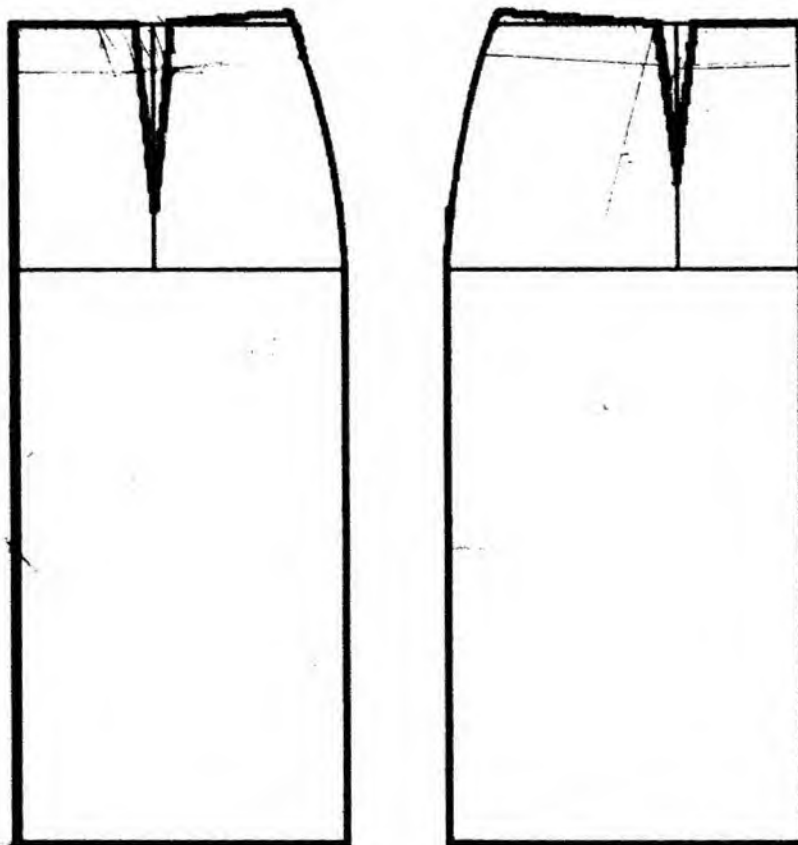
Юбка прямого силуэта длиной до середины колена. Верх юбки оформлен обтачкой. На переднем полотнище нанесены конструктивные линии: одна горизонтальная (чуть ниже линии бедер) и две наклонные. На заднем полотнище средний шов заканчивается шлицей. Застежка на молнию в среднем шве.

#### **Карта послеоперационного контроля**

№	Критерии оценки	Баллы max	Баллы факт
<b>Нанесение новых линий фасона</b>			
1	Нанесена линия обтачки заднего полотнища	1	1
2	Нанесена линия обтачки переднего полотнища	1	1
3	Нанесена линия нижней части переднего полотнища	3	3
4	Нанесена линия боковой части переднего полотнища	2	2
5	Перенесена вытачка на переднем полотнище	1	0
6	Нанесена линия шлицы	1	1
<b>Подготовка выкроек к раскрою и нанесение надписей на чертеже основы</b>			
7	Выполнены детали обтачек	3	1
8	Указаны названия деталей	2	2
9	Указано количество деталей	2	2
10	Указано направление долевых нитей, сгиба	1	1
11	Указана величина припусков на швы	1	1
12	Чистота выполнения задания	2	2
	Итого	20	17

Шифр участника ТБ - 2)

### Нанесение линий фасона





Шифр участника 7Ф-21

13. Какая декоративная деталь объединяет представленные образы?

Оберка




*Технология изготовления швейных изделий*

14. Отметьте, для какого вида застежки нужен рулик?



а



б



в



г

15. В схеме сборки юбки пропущена одна операция. Что это за операция и когда она должна выполняться?



Ответ: Операция « Обработать верхний срез юбки »  
должна выполняться после операции « 6 ».

Шифр участника ТФ - 21

16. Фестонами отделывают воротники, манжеты, карманы и другие детали изделия. Фестоны могут иметь различную форму - с острыми и прямыми углами, закругленную.

Приведите правильную последовательность обработки фестонов:

- а) приметать обтачку, складывая ее с деталью лицевыми сторонами внутрь;
- б) выполнить намелку фестонов на изделии;
- в) вывернуть обтачку на лицевую сторону, выправить фестоны и выметать кант;
- г) приутюжить фестоны;
- д) проложить строчку точно по контуру фестонов;
- е) между фестонами сделать рассечки к углам строчки;
- ж) выполнить лекало фестона;
- з) срезать припуски близко к строчке.



Ответ: 1 - « а », 2 - « ж », 3 - « б », 4 - « д », 5 - « з », 6 - « е », 7 - « в », 8 - « г ».

### История костюма

17. Укажите названия каждого вида пальто (дафлкот, пальто с запахом, пончо, кейп, кокон, кромби):



1 - Кромби

2 - Кокони

3 - Кейп

0

Шифр участника ТЖ-21



4. Долгая юбка ; 5. Плечи ; 6. Платье с заплатами

18. Знаменитую советскую балерину Майю Плисецкую считал своей музой:

- а) Вячеслав Зайцев;
- б) Пьер Карден;
- в) Жан-Поль Готье;
- г) Игорь Чапурин?



#### Технологии домашнего хозяйства

19. Мама затеяла генеральную уборку дома. Вымыла окна и начала стирать тюлевые шторы. Она стряхнула пыль и замочила шторы в горячей воде, затем добавила порошок и постирала вручную полотна. Отжала их вручную и повесила сушиться. Верные ли действия мамы? Обоснуй свое мнение. Верны, тк. ткань требует деликатной стирки.

20. Ответь на вопросы и дай верный ответ

а. Как называется внутренний мир дома, складывающийся из отдельных вещей: Интерьер.

б. Совокупность предметов, которыми обставляют помещение: Фурнитура

в. Оформление интерьера, учитывающее размер помещения, его расположение и освещение: Проектирование

г. Оригинальное сочетание пропорций и размеров предметов, удобных для проживания в квартире: Физайн

Шифр участника ТД - 21

### Семейная экономика

21. У семьи Ивановых, состоящей из 3-х человек, плата за холодную воду составляет 48,28 руб., за горячую – 172,38 руб. в месяц с человека. А у семьи Петровых (три человека) в квартире установлены приборы учета воды, в месяц платят за воду 561,98 руб. **Какая семья экономит на оплате за воду и какова экономия в рублях относительно другой семьи.**

- а. Ивановых, 100 руб. в. Ивановых, 441, 32 руб.  
б. Петровых, 100 руб. г. Петровых, 441, 32 руб.

22. Предприятие разместило в банке 5 млн. руб. под 8% годовых. **Какая сумма будет на счету предприятия через год?**

- а. 5,4 млн. руб. в. 10 млн. руб.  
б. 5,8 млн. руб. г. 6,4 млн. руб.

23. **Вычислите среднедушевой доход в семье**, если отец получает 35 000 руб., мама – 27 000руб., пенсия бабушки – 8 500 руб. и в семье еще два ребенка.

- а. 15 000р. в. 14 100р.  
б. 16 700р. г. 17 500р.

24. **Что не относится к сбережениям населения?**

- а. покупка золотых слитков в. приобретение иностранной валюты  
б. счет в банке г. покупка кухонной техники

25. **Творческое задание.**

Дайте описание предложенного на рисунке платья:

- силуэт изделия - Плечи расширенные,
- длина изделия - до колена,
- покрой рукава - втачной,
- длина рукава - 1:1,
- оформление горловины - \_\_\_\_\_,
- членение полочки - \_\_\_\_\_
- \_\_\_\_\_
- членение спинки - по середине

Определите назначение модели: П. к. покрой простой, имеется своеобразная симметрия, декор. н., то или нат. это это сорочка или дисовое платье.

Шифр участника ТЮ-21




Шифр участника ТД-24

185

**Практическое задание №1**



**Изготовление блока «Шахматка» в технике лоскутного шитья**



Необходимые материалы: х/б ткань размером 500\*100 мм - 2 цвета, нитки в тон.

Описание операции	Графическое изображение
1. Из каждой ткани выкроить полосу размером 60*480мм.	
2. Сложить полосы лицевой стороной внутрь, по длинной стороне сколоть булавками, стачать шириной шва 7 мм. Припуски на швы заутюжить в одну сторону.	
3. Разрезать заготовку на 8 равных частей.	
4. Собрать 4 фрагмента по схеме	

Шифр участника ТД-24

	
5. Собрать фрагменты в блок (сшить фрагменты попарно в горизонтальные ряды, затем объединить их в общий блок)	
6. Выполнить окончательную ВТО образца	

**Карта послеоперационного контроля  
Изготовление блока «Шахматка» в технике лоскутного шитья**

№	Критерии оценки	Баллы max	Баллы факт
1	Точность кроя	5	5
2	Ширина припусков 7 мм	2	2
3	Ширина квадратов в готовом виде $45 \pm 1$ мм	3	3
4	Припуски заутюжены в одном направлении	2	1
5	Блок собран по схеме	2	2
6	Точность сборки (состыковка швов)	4	3
7	Качество окончательной влажно-тепловой обработки (да/нет)	1	1
8	Соблюдение безопасных приемов труда (да/нет)	1	1
	Итого	20	18

Шифр участника ТД - 27

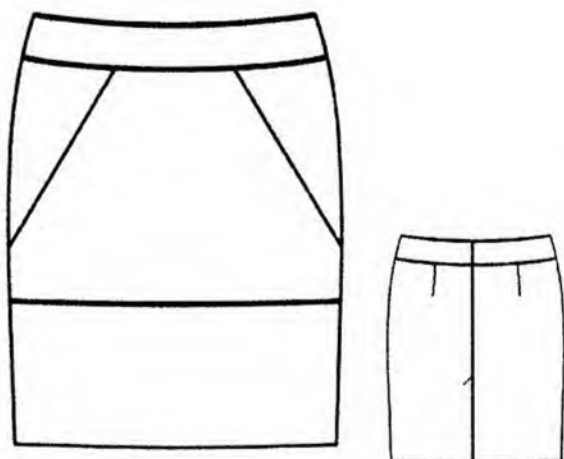
**Практическое задание №2**

**Моделирование поясного изделия по эскизу  
и подготовка выкройки к раскрою**

**Порядок выполнения работы**

1. На основу чертежа поясного изделия нанесите линии фасона. Выполните моделирование.
2. Изготовьте из цветной бумаги лекала для раскладки на ткани.
3. Нанесите на лекала необходимые надписи для раскроя.

Эскиз



Описание модели

Юбка прямого силуэта длиной до середины колена. Верх юбки оформлен обтачкой. На переднем полотнище нанесены конструктивные линии: одна горизонтальная (чуть ниже линии бедер) и две наклонные. На заднем полотнище средний шов заканчивается шлицей. Застежка на молнию в среднем шве.

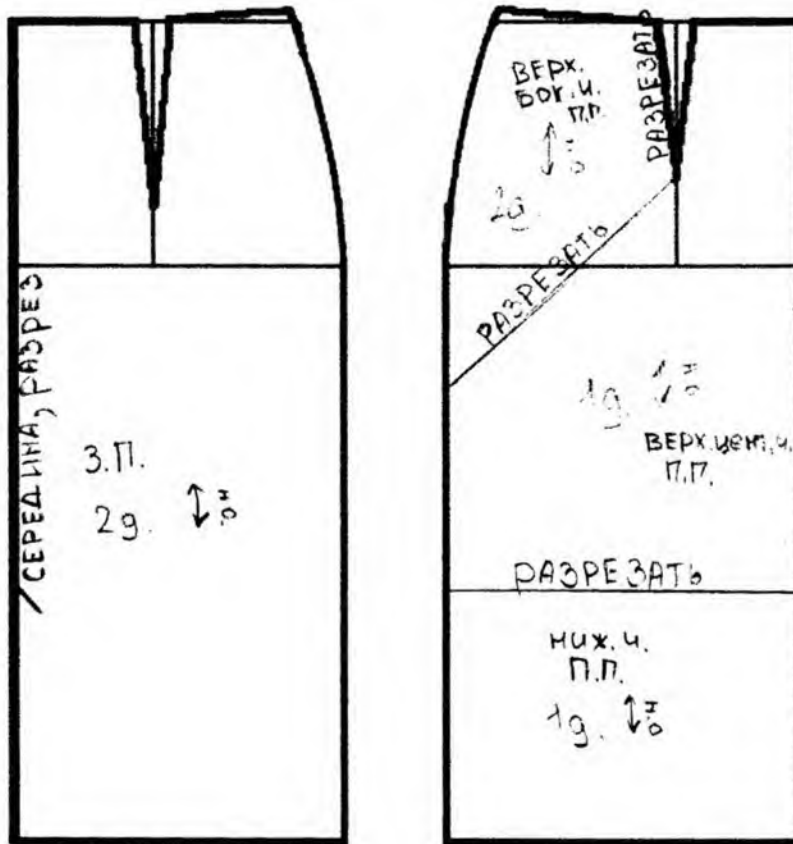
**Карта послеоперационного контроля**

№	Критерии оценки	Баллы max	Баллы факт
<b>Нанесение новых линий фасона</b>			
1	Нанесена линия обтачки заднего полотнища	1	0
2	Нанесена линия обтачки переднего полотнища	1	0
3	Нанесена линия нижней части переднего полотнища	3	3
4	Нанесена линия боковой части переднего полотнища	2	2
5	Перенесена вытачка на переднем полотнище	1	1
6	Нанесена линия шлицы	1	0
<b>Подготовка выкроек к раскрою и нанесение надписей на чертеже основы</b>			
7	Выполнены детали обтачек	3	2
8	Указаны названия деталей	2	2
9	Указано количество деталей	2	2
10	Указано направление долевых нитей, сгиба	1	1
11	Указана величина припусков на швы	1	0
12	Чистота выполнения задания	2	1
	Итого	20	14



Шифр участника ТД - 24

### Нанесение линий фасона





ВСЕРОССИЙСКАЯ ОЛИМПИАДА ШКОЛЬНИКОВ 2017/2018 гг.  
МУНИЦИПАЛЬНЫЙ ЭТАП  
ТЕХНОЛОГИЯ

КУЛЬТУРА ДОМА И ДЕКОРАТИВНО-ПРИКЛАДНОЕ ТВОРЧЕСТВО  
8 - 9 КЛАСС

Шифр участника ТД-27

125 + 25  
итого 150

Уважаемый участник!

Теоретические задания первого тура состоят из 25 заданий, в которых предложены тесты с одним или несколькими правильными ответами. Также предложены теоретические вопросы, на которые следует дать исчерпывающий ответ и творческое задание.

Задача участника: внимательно ознакомиться с предложенными заданиями и выполнить их в строгом соответствии с формулировкой.

Каждый правильный ответ в заданиях с 1 по 24 оценивается в 1 балл.

Задание 25 оценивается в 11 баллов.

Всего за теоретический тур максимальное количество баллов, которое может набрать участник, составляет 35 баллов.

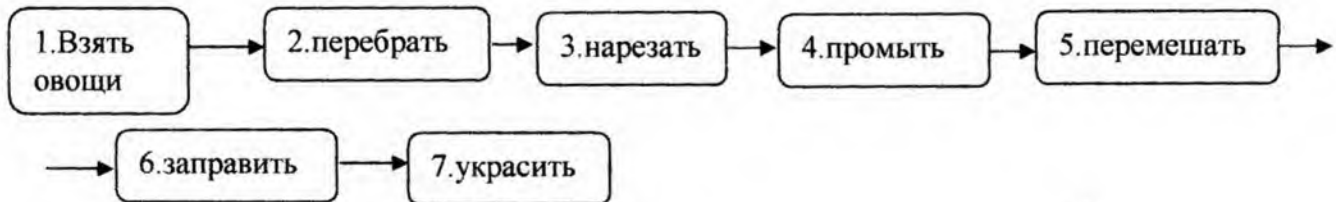
Длительность 1-го тура (теоретического) составляет 1,5 часа (90 минут).

Шифр участника ТД-27

### Кулинария

**Выберите правильный ответ**

**1. Какие действия в цепочке приготовления салата из сырых овощей необходимо поменять местами?**



- а) 3-4, 6-7  
б) 2-4, 5-6

- в) 3-4, 5-6  
г) 2-3, 6-7

1

**2. Какой вид чая не содержит кофеин?**

- а) травяной  
б) черный листовый

- в) зеленый  
г) черный пакетированный

1

**3. Как называются круглые, открытые сверху и защипанные только с краёв лепешки с наполнителем?**

- а) пирожки  
б) плюшки

- в) эклеры  
 г) ватрушки

1

**4. Сколько жидкости необходимо взять для варки рассыпчатой пшённой каши если крупы 100г?**

- а) 200 мл  
б) 180 мл

- в) 250 мл  
г) 140 мл

0

**5. Какой способ консервирования продуктов не применяется в кулинарии?**

- а) соление  
б) копчение

- в) пряжение  
г) маринование

1

**6. Как называется воздушный пирог из яичных желтков, смешанных с разнообразными ингредиентами, куда затем добавляются взбитые до белых яичные белки?**

- а) суфле  
б) меренги

- в) пудинг  
г) желе

0

*Свойства текстильных материалов*

Шифр участника ТД-24

7. Соотнесите название ткани и ее описание:

1 - Ангора	А - Легкая ткань простого сетчатого переплетения, за счет которого она приобретает полупрозрачность. Общими свойствами материи являются: тонкость, прозрачность, легкость, хорошая драпируемость. Все эти свойства позволяют создавать легкую многослойную одежду сложного кроя с большим количеством декоративных элементов: оборок, воланов, рюшей и т.п.
2 - Шифон	Б - Название описываемого материала буквально переводится с английского как «тянущийся в обе стороны». Полотно способно растягиваться и увеличиваться на 300%, не мнется, прекрасно отводит влагу, быстро сохнет. В жару в одежде будет очень комфортно, потому что эта ткань способна сохранять прохладу. Это полотно бывает ярких расцветок. Насыщенность цвета сохраняется навсегда, не выгорая на солнце и после стирок. Подходит для изготовления спортивной одежды.
3 - Атлас	В - Ткань изготавливается из шерсти коз. Их отдельные шерстинки могут достигать 30 см длины, обладают мягкостью и шелковистым блеском, имеют природную белую, реже серую или черную окраску. Это сырье использовали для производства самых дорогих шерстяных тканей, шалей, добавки к шелку. Позднее козью шерсть стали заменять пухом длинношерстных кроликов.
4 - Бифлекс	Г - В 1850 году Леви Страус открыл предприятие по пошиву рабочей одежды из этого материала. Немного позже он задумался о создании прочных брюк из парусиновой ткани, которые и стали неизменным облачением смелых ковбоев.
5 - Деним	Д - Плотная шелковая или полупелюковая ткань атласного переплетения. Лицевая поверхность получается гладкой и блестящей, внешне напоминающий шелк, но более плотный по структуре. Изнанка полотна остается матовой и шероховатой на ощупь. Из него шьют свадебные, вечерние и нарядные платья, блузы, рубашки, нижнее и постельное белье, декоративные ленты для отделки шляпок, используют в качестве подкладки для пальто.


1  
0  
Ответ: 1 – «В», 2 – «А», 3 – «Д», 4 – «Б», 5 – «Г».

8. Ткань болонья - это капрон, обработанный полимерным акрилосодержащим составом, легкая, прочная, не пропускает воду и воздух, ей вредят прямые солнечные лучи.

Исходя из описания ткани, предложите область применения изготовление различной униформы.

Шифр участника ТД - 27

9. Терморегулятор установлен в определенное положение (см. рисунок). Можно ли в этом положении утюжить капроновые шторы? Поясните ответ.




Ответ: можно, т.к. чтобы отутюжить

капрон нужен пар, но при этом  
температура не должна быть максимальной  
**Швейная машина**

10. Какая операция изображена на фото?

обработка края изделия с  
помощью косой бейки



11. Укажите правильную последовательность операций при смене иглы:

- а) ослабьте игольный винт, поворачивая его против часовой стрелки;
- б) выньте иглу из зажима;
- в) поверните на себя маховое колесо, поднимите иглу и опустите прижимную лапку;
- г) отключите питание;
- д) отверткой затяните игольный винт;
- е) вставьте новую иглу плоской стороной от себя.

Ответ: 1 - «в», 2 - «г», 3 - «а», 4 - «д», 5 - «е», 6 - «б».

### Конструирование и моделирование швейных изделий

12. Размер детской одежды обозначается двумя значениями, например: 128-64. Что это означает?

Ответ: 128 - рост  
64 - обхват  
талии  
x 2 } 32 размер

Шифр участника ТД - 27

13. Какая декоративная деталь объединяет представленные образы?

шлица



*Технология изготовления швейных изделий*

14. Отметьте, для какого вида застежки нужен рулик?




а



б



в



г

15. В схеме сборки юбки пропущена одна операция. Что это за операция и когда она должна выполняться?




Ответ: Операция « обработать и пришить пояс » должна выполняться после операции « б ».

Шифр участника ТД - 27

16. Фестонами отделывают воротники, манжеты, карманы и другие детали изделия. Фестоны могут иметь различную форму - с острыми и прямыми углами, закругленную.

Приведите правильную последовательность обработки фестонов:

- приметать обтачку, складывая ее с деталью лицевыми сторонами внутрь;
- выполнить намелку фестонов на изделии;
- вывернуть обтачку на лицевую сторону, выправить фестоны и выметать кант;
- приутюжить фестоны;
- проложить строчку точно по контуру фестонов;
- между фестонами сделать рассечки к углам строчки;
- выполнить лекало фестона;
- срезать припуски близко к строчке.



Ответ: 1 - «ж», 2 - «б», 3 - «г», 4 - «е», 5 - «з», 6 - «а», 7 - «в», 8 - «д».

#### История костюма

17. Укажите названия каждого вида пальто (дафлкот, пальто с запахом, пончо, кейп, кокон, кромби):



1 - кейп ; 2 - кокон ; 3 - кромби ;

Шифр участника

ТД - 27



4. дафлот; 5. пончо; 6. пальто с запахом

18. Знаменитую советскую балерину Майю Плисецкую считал своей музой:

- а) Вячеслав Зайцев;
- б) Пьер Карден;
- в) Жан-Поль Готье;
- г) Игорь Чапурин?



*Технологии домашнего хозяйства*

19. Мама затеяла генеральную уборку дома. Вымыла окна и начала стирать тюлевые шторы. Она стряхнула пыль и замочила шторы в горячей воде, затем добавила порошок и постирала вручную полотна. Отжала их вручную и повесила сушиться. Верные ли действия мамы? Обоснуй свое мнение. вместо того, чтобы отжимать вручную, надо было отжать на машинке, т.к. это было бы наиболее эффективно

20. Ответь на вопросы и дай верный ответ

- а. Как называется внутренний мир дома, складывающийся из отдельных вещей: домашний обиход
- б. Совокупность предметов, которыми обставляют помещение: мебель
- в. Оформление интерьера, учитывающее размер помещения, его расположение и освещение: дизайн интерьера
- г. Оригинальное сочетание пропорций и размеров предметов, удобных для проживания в квартире: \_\_\_\_\_





Шифр участника 74-27



711 CS


Муниципальный этап всероссийской олимпиады школьников по технологии (девочки)  
Ханты-Мансийский автономный округ – Югра, 2017-2018 учебный год  
Олимпиадные задания, 7 класс

### Результаты моделирования



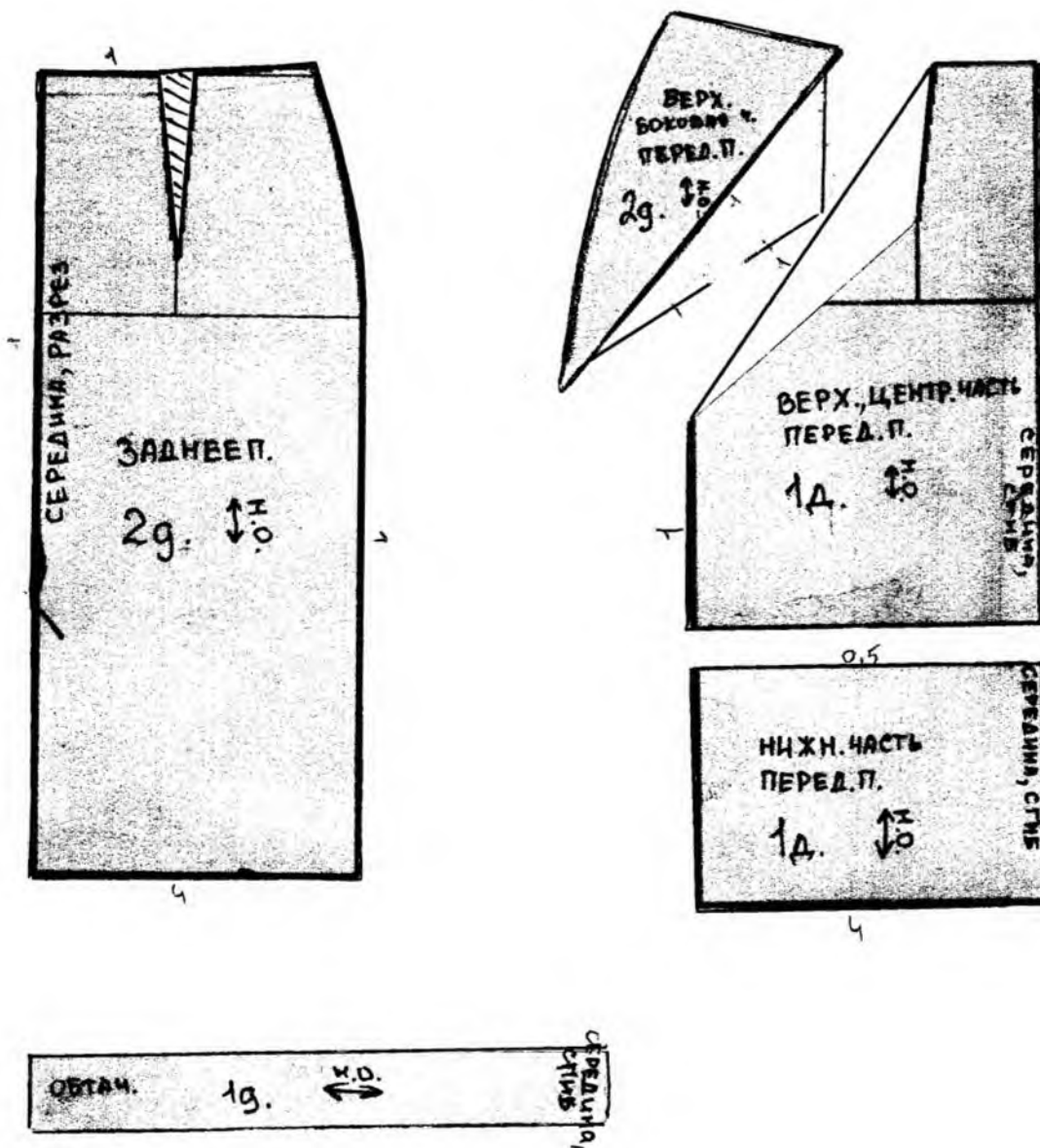
Шифр участника ТД - 21

Результаты моделирования



Шифр участника ТД-27

Результаты моделирования



175

**Практическое задание №1**



**Изготовление блока «Римские полосы» в технике лоскутного шитья**



Необходимые материалы: х/б ткань размером 600×50 мм 4 цветов, нитки в тон.

Описание операции	Графическое изображение
1. Из каждой ткани четырех цветов выкроить полосу размером 45×545мм.	
2. Сложить 2 полосы лицевой стороной внутрь, по длинной стороне сколоть булавками, стачать шириной шва 7 мм. Притачать последовательно еще 2 полосы. Припуски на швы заутюжить в одну сторону.	

Муниципальный этап всероссийской олимпиады школьников по технологии (девочки)  
Ханты-Мансийский автономный округ – Югра, 2017-2018 учебный год  
Олимпиадные задания, 7 класс

3. Разрезать заготовку на 4 равные части (должно получиться 4 квадрата $136 \times 136 \text{ мм} \pm 2 \text{ мм}$ ).	
4. Собрать блок по схеме (сшить квадраты попарно в горизонтальные ряды, затем объединить их в общий блок)	
5. Выполнить окончательную ВТО образца	

**Карта послеоперационного контроля**  
**Изготовление блока «Римские полосы» в технике лоскутного шитья**

№	Критерии оценки	Баллы max	Баллы факт
1	Точность края	5	4
2	Ширина припусков 7 мм	2	2
3	Ширина полосок в готовом виде $30 \pm 1$ мм	3	2
4	Припуски заутюжены в одном направлении	2	1
5	Блок собран по схеме	2	2
6	Точность сборки блока (фрагменты состыкованы в центре)	4	4
7	Качество окончательной влажно-тепловой обработки (да/нет)	1	1
8	Соблюдение безопасных приемов труда (да/нет)	1	1
	Итого	20	17

### Практическое задание №2

## Моделирование фартука по эскизу и подготовка выкройки к раскрою

### *Порядок выполнения работы*

1. На основу чертежа фартука нанесите линии фасона. Выполните моделирование.
2. Изготовьте из цветной бумаги лекала для раскладки на ткани.
3. Нанесите на лекала необходимые надписи для раскроя.

Эскиз



Описание модели

Фартук выполнен из х/б ткани, фиксируется на талии притачным поясом. Застежка на липучку.

На переднике 2 накладных кармана, небольшая сборка по верхнему срезу, нижние углы немного закруглены и украшены оборкой.

Нагрудник квадратной формы.

Фартук завязывается на бретели бантом, бретели украшены оборкой.

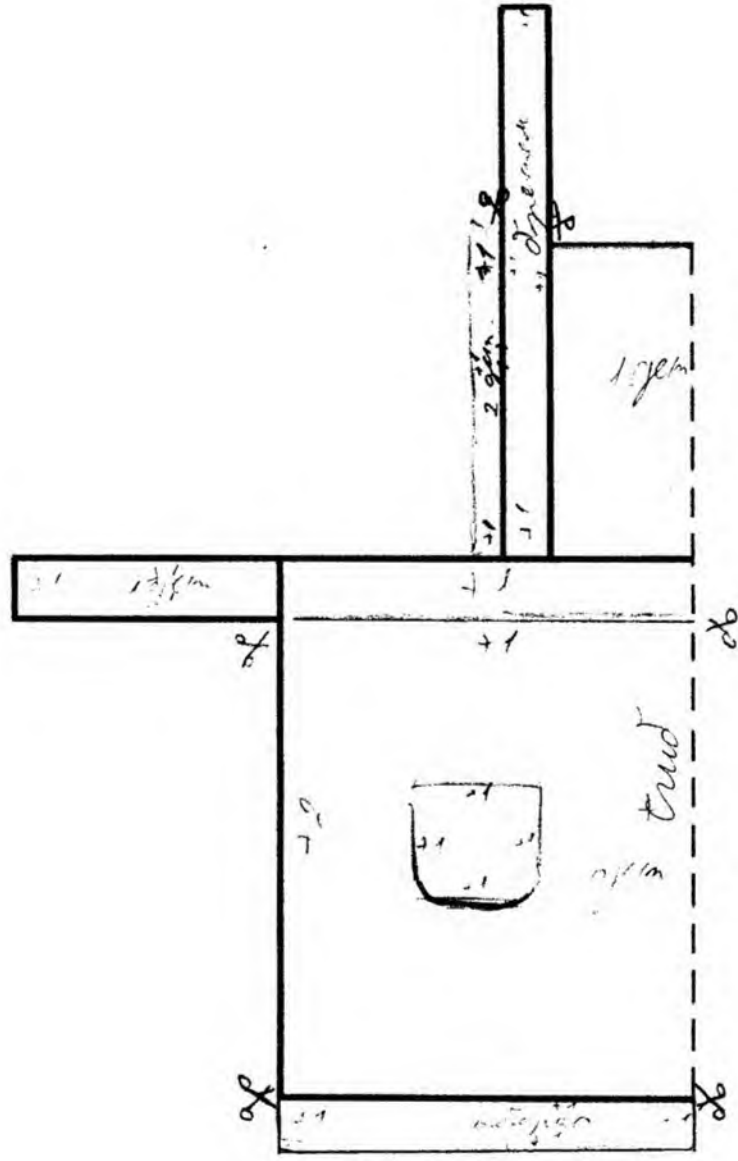
Пояс, бретели, карманы и оборка передника выполнены из контрастной ткани.

### Карта послеоперационного контроля

№	Критерии оценки	Баллы тах	Баллы факт
<b>Нанесение новых линий фасона</b>			
1	Оформлен нижний угол передника	2	0
2	Оформлена линия пояса	2	2
3	Оформлена линия кармана	2	1
4	Добавлена длина бретели	2	0
5	Намечено место расположения кармана	1	1
<b>Подготовка выкроек к раскрою и нанесение надписей на чертеже основы</b>			
6	Построена оборка передника	2	0
7	Построена оборка бретели	2	1
8	Указаны названия деталей	1	1
9	Указано количество деталей	2	2
10	Указано направление долевой нити, сгиба	1	0
11	Указана величина припусков на швы	1	1
12	Чистота выполнения задания	2	0
	Итого	20	0



Нанесение линий фасона





ВСЕРОССИЙСКАЯ ОЛИМПИАДА ШКОЛЬНИКОВ 2017/2018 гг.  
МУНИЦИПАЛЬНЫЙ ЭТАП  
ТЕХНОЛОГИЯ  
КУЛЬТУРА ДОМА И ДЕКОРАТИВНО-ПРИКЛАДНОЕ ТВОРЧЕСТВО

7 КЛАСС

Шифр участника ТД-02

Уважаемый участник!

Теоретические задания первого тура состоят из 20 заданий, в которых предложены тесты с одним или несколькими правильными ответами. Также предложены теоретические вопросы, на которые следует дать исчерпывающий ответ и творческое задание.

Задача участника: внимательно ознакомиться с предложенными заданиями и выполнить их в строгом соответствии с формулировкой.

Каждый правильный ответ в заданиях с 1 по 19 оценивается в 1 балл.





Задание 20 оценивается в 6 баллов.

Всего за теоретический тур максимальное количество баллов, которое может набрать участник, составляет 25 баллов.





Длительность 1-го тура (теоретического) составляет 1,5 часа (90 минут).

**Кулинария**

1. Какой прибор необходимо выбрать, чтобы заварить кофе во французском прессе?

(a)	<input checked="" type="radio"/> б	(в)	(г)
			

2. Семья собралась перекусить. Мама для всех сделала его любимый бутерброд. Раздай бутерброды, если папа любит закрытый бутерброд, мама – открытый простой бутерброд, сын – открытый сложный бутерброд, дочь – закусочный.

(1) папа	(2) мама	(3) сын	(4) дочь
A) 	B) 	B) 	Г) 

Ответ: 1 - Г, 2 - А, 3 - Б, 4 - БВ

3. Чай получится вкуснее, если....

- а) заваривать в железном чайнике
- б) использовать жесткую воду
- в) использовать мягкую воду
- г) заваривать в глиняном чайнике

4. Какие овощи относятся к десертной группе овощей:

- а) кольраби
- б) ревень
- в) батат
- г) свекла

5. Овощи при огневой сушке не изменяют цвет?

- а) верно
- б) неверно

6. Сколько необходимо взять жидкости на 100 г манной крупы, чтобы получилась жидкая манная каша?

- а) 200 мл
- б) 570 мл
- в) 1000мл
- г) 100 мл

**Свойства текстильных материалов**

7. Соотнесите название ткани и ее описание:


1 - Льняная ткань	А - Особенностью этой ткани является наличие длинного нитяного ворса на одной или двух сторонах полотна. Этот ворс образуется с помощью вытягивания на поверхность
-------------------	--

Муниципальный этап всероссийской олимпиады школьников по технологии (девочки)  
Ханты-Мансийский автономный округ – Югра, 2017-2018 учебный год  
Олимпиадные задания, 7 класс

	петель из неплотно натянутой нити основы. Петли могут быть неразрезными, стриженными и даже образовывать рельефный орнамент. Из ткани изготавливают домашние халаты и полотенца.
2 - Шотландка	Б - Ткань из хлопка, на лицевой стороне которой видны прямые рубчики по всей длине отрезка, параллельные кромке.
3 - Фланель	В - Натуральная ткань имеет сероватый оттенок, который исчезает при воздействии влаги и солнечных лучей. По старинной технологии для отбеливания новые полотна расстилали так, чтобы их достаточно долгое время смачивала роса, затем высушивало солнце.
4 – Махровая ткань	Г - Мягкая ткань с начесом, сделанная из хлопка, шерсти или полушерсти. Хорошо сохраняет тепло, обладает потрясающей гигроскопичностью. Материал имеет разное назначение: от домашней одежды для взрослых и детей до пеленок.
5 - Вельвет	Д - Ткань в клеточку, чье название прямо указывает на страну ее происхождения. Изготавливается способом саржевого переплетения из заранее окрашенных нитей, располагающихся крестообразно. Цвета и сложность узора прямо указывали на статус человека.

Ответ: 1 – «В», 2 – «Д», 3 – «Г», 4 – «А», 5 – «Б».

8. Терморегулятор утюга установлен в определенное положение (см. рисунок). Можно ли в этом положении утюжить льняную скатерть? Поясните ответ.



Нет, нельзя, в этот момент температура очень  
высокая и есть риск того, что  
ткань может прижечься.


### Швейная машина

9. Укажите правильную последовательность операций при заправке шпульного колпачка:

- поместите шпульку в шпульный колпачок;
- протяните нить под пружиной натяжения и выведите в отверстие колпачка;
- вытяните нить сквозь щель шпульного колпачка;
- оставьте около 10 см свободной нити.

Ответ: 1 – «Д», 2 – «А», 3 – «Б», 4 – «В».

10. В каких случаях используется двойная игла?



Ответ:

Ее используют, когда

нужно сделать двойной

шов, не закрывая его.

Используют, когда обрабатывают край, чтобы не торчала нить.

Конструирование и моделирование швейных изделий

11. Как называется операция переноса нагрудной вытачки? Перенос выточек по перегибу полотнища



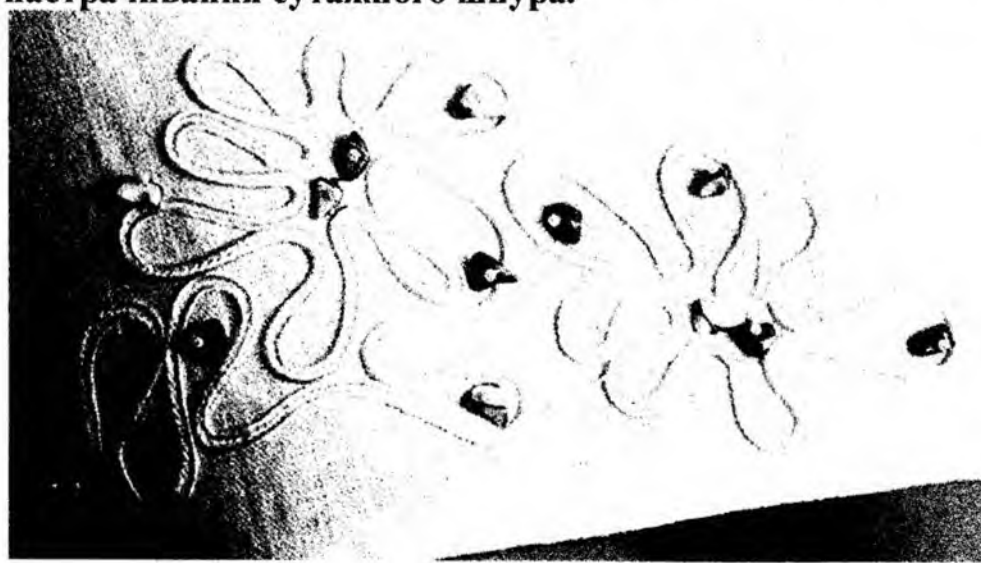
12. Почему чертеж строят на одну половину фигуры?

Ответ: Вторая половина будет зерка-

льным, но будет занимать место.

Технология изготовления швейных изделий

13. Очень часто швейные изделия декорируются сутажем. Предложите способы настрачивания сутажного шнура.

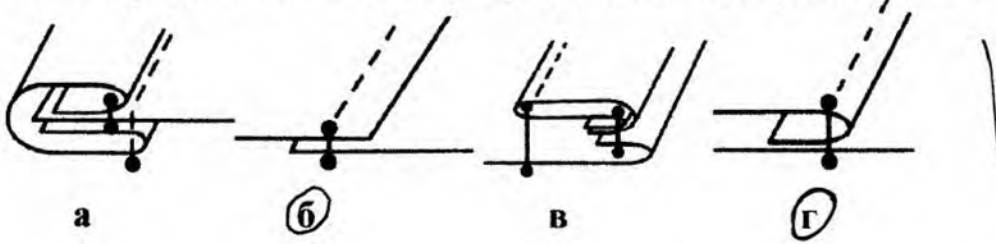


Ответ:

1 способ В ручную


2 способ Поворачивая изделие во время прошивки. (когда машинка)

14. Из представленных на рисунке швов выберите соединительные швы:




15. Прокладывание машинных строчек на деталях для закрепления припусков шва, направленных в противоположные стороны, называется

Розничное машинное закрепление.



### История костюма

16. Установите соответствие внешнего вида изделия его названию (худи, водолазка, свитшот, пуловер, кардиган, джемпер):



1 - фудловер ; 2 - свитшот ; 3 - джерси ;



4 - кордониш ; 5 - шуба ; 6 - бодуэлка

17. Что явилось прототипом представленного на рисунке жакета:

- а – польский контуш,
- б – гусарский ментик,
- в – казацкий чекмень,
- г – кавказский архалук,
- д – гренадерский мундир?



*Технологии домашнего хозяйства*

18. В жилом помещении поклеены обои фиолетового оттенка, ковёр на полу синего цвета и портьеры жёлтого оттенка. Какие элементы интерьера сочетаются по цветовой гамме?

- а) Ковёр и обои
- б) Ковёр и портьеры
- в) Обои и портьеры
- г) Ковёр, обои и портьеры

19. По описанию определи, о каком виде обоев идёт речь. Напиши название.

а. Натуральный материал. Выраженная текстура. Оттенки коричневого, бежевого, песочного, золотистого. Долговечность. Толщина составляет около 2 мм. Высокие теплоизоляционные, звукоизоляционные свойства: Джутовые обои

б. Заготовки в виде стеклянных кубиков. Тянут тонкие нити. Полотно. Стеклоткань. Добавки на основе крахмала: Стеклообои

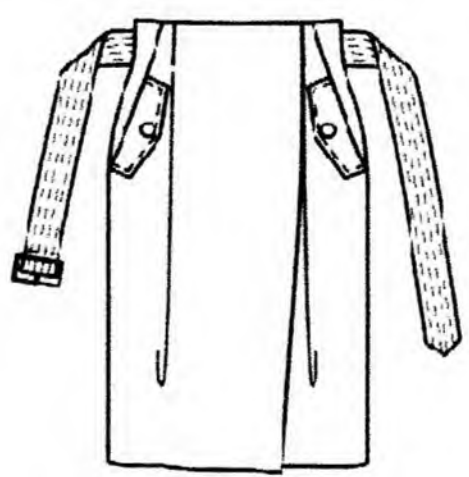
в. Основной компонент целлюлоза. Декоративные волокна. Блётки. Не имеют стыков. Срок службы 6-8 лет. Необычная рельефная структура: Шпатель

г. Натуральный материал: шелк, лен, хлопок, джут, велюр. Бумажная или флизелиновая основа. Используют в интерьерах в восточном стиле. Бесшовное покрытие. Низкая устойчивость к пыли, грязи, запахам, влаги и воздействию домашних животных: Тканевые

20. Творческое задание:

Ваша подружка купила новую юбку, но не знает, с чем ее надеть. Помогите подружке – нарисуйте эскиз плечевого изделия, подходящего к юбке на рисунке на 8 странице. Поясните свое решение.

Я решила, что в такой ситуации подойдет бы белая футболка и серебристая легкая курточка. Соответствовал бы цветовой гамме



Пожелательны бы обе стороны футболки. Меланж или свелобразная футболка. Сочетался бы курточка, и юбка. И с поясом на футболке и легкая футболка с поясом. Обозначены бы узорочки, меланж или... курточка с серебристыми...



Эскиз юбки



2

Эскиз плечевого изделия




1

Шифр участника ТД - 19 11

**Практическое задание №1**



**Изготовление блока «Шахматка» в технике лоскутного шитья**



Необходимые материалы: х/б ткань размером 500\*100 мм - 2 цвета, нитки в тон.

Описание операции	Графическое изображение
1. Из каждой ткани выкроить полосу размером 60*480мм.	
2. Сложить полосы лицевой стороной внутрь, по длинной стороне сколоть булавками, стачать шириной шва 7 мм. Припуски на швы заутюжить в одну сторону.	
3. Разрезать заготовку на 8 равных частей.	
4. Собрать 4 фрагмента по схеме	

Шифр участника ТЦ - 19

	
5. Собрать фрагменты в блок (сшить фрагменты попарно в горизонтальные ряды, затем объединить их в общий блок)	
6. Выполнить окончательную ВТО образца	

**Карта послеоперационного контроля  
Изготовление блока «Шахматка» в технике лоскутного шитья**

№	Критерии оценки	Баллы max	Баллы факт
1	Точность кроя	5	3
2	Ширина припусков 7 мм	2	1
3	Ширина квадратов в готовом виде 45±1 мм	3	1
4	Припуски заутюжены в одном направлении	2	1
5	Блок собран по схеме	2	1
6	Точность сборки (состыковка швов)	4	2
7	Качество окончательной влажно-тепловой обработки (да/нет)	1	1
8	Соблюдение безопасных приемов труда (да/нет)	1	1
	Итого	20	11

Шифр участника ТД - 19

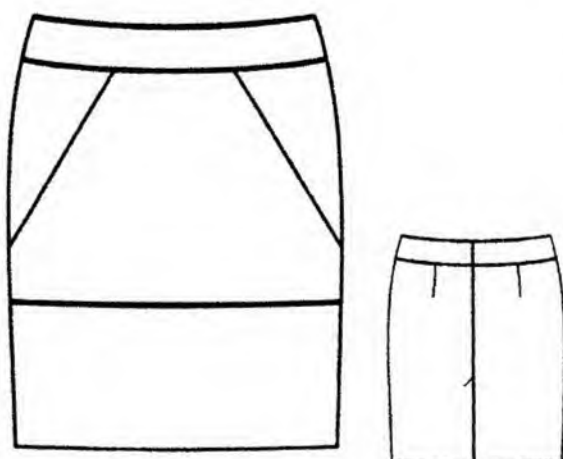
**Практическое задание №2**

**Моделирование поясного изделия по эскизу  
и подготовка выкройки к раскрою**

**Порядок выполнения работы**

1. На основу чертежа поясного изделия нанесите линии фасона. Выполните моделирование.
2. Изготовьте из цветной бумаги лекала для раскладки на ткани.
3. Нанесите на лекала необходимые надписи для раскроя.

Эскиз



Описание модели

Юбка прямого силуэта длиной до середины колена. Верх юбки оформлен обтачкой.

На переднем полотнище нанесены конструктивные линии: одна горизонтальная (чуть ниже линии бедер) и две наклонные.

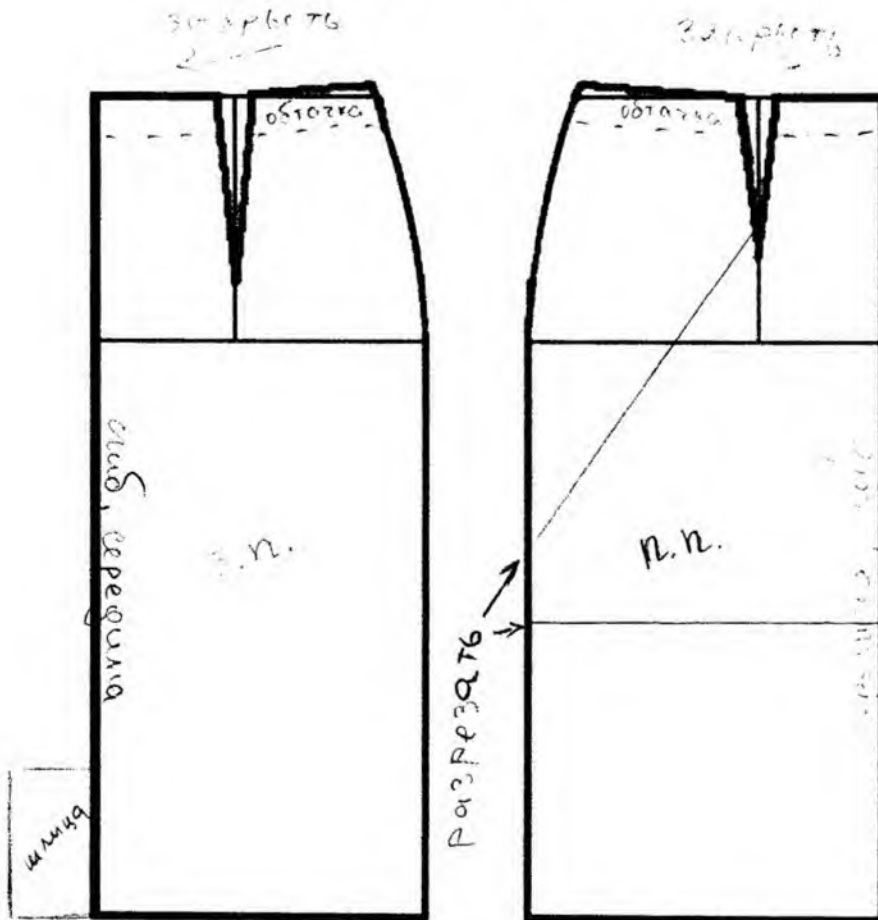
На заднем полотнище средний шов заканчивается шлицей. Застежка на молнию в среднем шве.

**Карта послеоперационного контроля**

№	Критерии оценки	Баллы max	Баллы факт
<b>Нанесение новых линий фасона</b>			
1	Нанесена линия обтачки заднего полотнища	1	1
2	Нанесена линия обтачки переднего полотнища	1	1
3	Нанесена линия нижней части переднего полотнища	3	3
4	Нанесена линия боковой части переднего полотнища	2	2
5	Перенесена вытачка на переднем полотнище	1	1
6	Нанесена линия шлицы	1	1
<b>Подготовка выкроек к раскрою и нанесение надписей на чертеже основы</b>			
7	Выполнены детали обтачек	3	3
8	Указаны названия деталей	2	1
9	Указано количество деталей	2	2
10	Указано направление долевых нитей, сгиба	1	1
11	Указана величина припусков на швы	1	1
12	Чистота выполнения задания	2	2
	Итого	20	19

Шифр участника ГД-19

### Нанесение линий фасона





ВСЕРОССИЙСКАЯ ОЛИМПИАДА ШКОЛЬНИКОВ 2017/2018 гг.

МУНИЦИПАЛЬНЫЙ ЭТАП

ТЕХНОЛОГИЯ

КУЛЬТУРА ДОМА И ДЕКОРАТИВНО-ПРИКЛАДНОЕ ТВОРЧЕСТВО

8 - 9 КЛАСС

Шифр участника

ТД - 19

13

Уважаемый участник!

Теоретические задания первого тура состоят из 25 заданий, в которых предложены тесты с одним или несколькими правильными ответами. Также предложены теоретические вопросы, на которые следует дать исчерпывающий ответ и творческое задание.

Задача участника: внимательно ознакомиться с предложенными заданиями и выполнить их в строгом соответствии с формулировкой.

Каждый правильный ответ в заданиях с 1 по 24 оценивается в 1 балл.

Задание 25 оценивается в 11 баллов.

Всего за теоретический тур максимальное количество баллов, которое может набрать участник, составляет 35 баллов.

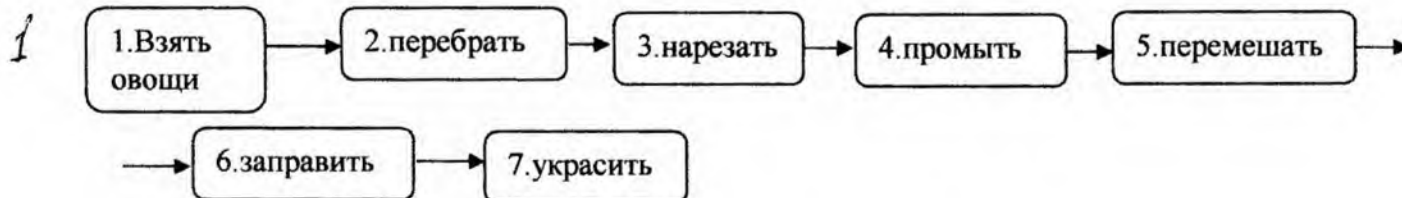
Длительность 1-го тура (теоретического) составляет 1,5 часа (90 минут).

Шифр участника ТД-19

### Кулинария

**Выберите правильный ответ**

**1. Какие действия в цепочке приготовления салата из сырых овощей необходимо поменять местами?**



- а) 3-4, 6-7  
б) 2-4, 5-6

- ✓ в) 3-4, 5-6  
г) 2-3, 6-7

**2. Какой вид чая не содержит кофеин?**

- 1  
✓ а) травяной  
б) черный листовый

- в) зеленый  
г) черный пакетированный

**3. Как называются круглые, открытые сверху и защипанные только с краёв лепешки с наполнителем?**

- 0  
а) пирожки  
✓ б) плюшки

- в) эклеры  
г) ватрушки

**4. Сколько жидкости необходимо взять для варки рассыпчатой пшённой каши если крупы 100г?**

- 0  
✓ а) 200 мл  
б) 180 мл

- в) 250 мл  
г) 140 мл

**5. Какой способ консервирования продуктов не применяется в кулинарии?**

- 1  
а) соление  
б) копчение

- ✓ в) пряжение  
г) маринование

**6. Как называется воздушный пирог из яичных желтков, смешанных с разнообразными ингредиентами, куда затем добавляются взбитые добела яичные белки?**

- 0  
а) суфле  
б) меренги

- ✓ в) пудинг  
г) желе

*Свойства текстильных материалов*

Шифр участника ТД-19

**7. Соотнесите название ткани и ее описание:**

1 - Ангора	А - Легкая ткань простого сетчатого переплетения, за счет которого она приобретает полупрозрачность. Общими свойствами материи являются: тонкость, прозрачность, легкость, хорошая драпируемость. Все эти свойства позволяют создавать легкую многослойную одежду сложного кроя с большим количеством декоративных элементов: оборок, воланов, рюшей и т.п.
2 - Шифон	Б - Название описываемого материала буквально переводится с английского как «тянущийся в обе стороны». Полотно способно растягиваться и увеличиваться на 300%, не мнется, прекрасно отводит влагу, быстро сохнет. В жару в одежде будет очень комфортно, потому что эта ткань способна сохранять прохладу. Это полотно бывает ярких расцветок. Насыщенность цвета сохраняется навсегда, не выгорая на солнце и после стирок. Подходит для изготовления спортивной одежды.
3 - Атлас	В - Ткань изготавливается из шерсти коз. Их отдельные шерстинки могут достигать 30 см длины, обладают мягкостью и шелковистым блеском, имеют природную белую, реже серую или черную окраску. Это сырье использовали для производства самых дорогих шерстяных тканей, шалей, добавки к шелку. Позднее козью шерсть стали заменять пухом длинношерстных кроликов.
4 - Бифлекс	Г - В 1850 году Леви Страус открыл предприятие по пошиву рабочей одежды из этого материала. Немного позже он задумался о создании прочных брюк из парусиновой ткани, которые и стали неизменным облачением смелых ковбоев.
5 - Деним	Д - Плотная шелковая или полшелковая ткань атласного переплетения. Лицевая поверхность получается гладкой и блестящей, внешне напоминающий шелк, но более плотный по структуре. Изнанка полотна остается матовой и шероховатой на ощупь. Из него шьют свадебные, вечерние и нарядные платья, блузы, рубашки, нижнее и постельное белье, декоративные ленты для отделки шляпок, используют в качестве подкладки для пальто.

1  
0  
Ответ: 1 – «б», 2 – «а», 3 – «г», 4 – «д», 5 – «з».


8. Ткань болонья - это капрон, обработанный полимерным акрилосодержащим составом, легкая, прочная, не пропускает воду и воздух, ей вредят прямые солнечные лучи.

Исходя из описания ткани, предложите область применения  
хоздел створ




Шифр участника ТД-19

9. Терморегулятор установлен в определенное положение (см. рисунок). Можно ли в этом положении утюжить капроновые шторы? Поясните ответ.



1  
0  
Ответ: Нет, утюжить нельзя, так как капрон можно утюжить только на минимальной температуре.  
*Швейная машина*

10. Какая операция изображена на фото?



11. Укажите правильную последовательность операций при смене иглы:

- а) ослабьте игольный винт, поворачивая его против часовой стрелки;  
б) выньте иглу из зажима;  
в) поверните на себя маховое колесо, поднимите иглу и опустите прижимную лапку;  
г) отключите питание;  
д) отверткой затяните игольный винт;  
е) вставьте новую иглу плоской стороной от себя.

1  
0  
Ответ: 1 – «з», 2 – «в», 3 – «а», 4 – «б», 5 – «е», 6 – «д».

### Конструирование и моделирование швейных изделий

12. Размер детской одежды обозначается двумя значениями, например: 128-64. Что это означает?

0  
Ответ: Дети разные, поэтому кому-то из детей  
эта одежда, у которых рост от 128 - 64

Шифр участника ТД-19

13. Какая декоративная деталь объединяет представленные образы?

оборка




*Технология изготовления швейных изделий*

14. Отметьте, для какого вида застежки нужен рулик?



а



б



в



г

15. В схеме сборки юбки пропущена одна операция. Что это за операция и когда она должна выполняться?




Ответ: Операция « Обработать верхний срез юбки » должна выполняться после операции « 3 ».

Шифр участника ТД-19

16. Фестонами отделывают воротники, манжеты, карманы и другие детали изделия. Фестоны могут иметь различную форму - с острыми и прямыми углами, закругленную.

Приведите правильную последовательность обработки фестонов:

- а) приметать обтачку, складывая ее с деталью лицевыми сторонами внутрь;
- б) выполнить намелку фестонов на изделии;
- в) вывернуть обтачку на лицевую сторону, выправить фестоны и выметать кант;
- г) приутюжить фестоны;
- д) проложить строчку точно по контуру фестонов;
- е) между фестонами сделать рассечки к углам строчки;
- ж) выполнить лекало фестона;
- з) срезать припуски близко к строчке.



Ответ: 1 – «ж», 2 – «б», 3 – «д», 4 – «з», 5 – «е», 6 – «г», 7 – «а», 8 – «в».

#### История костюма

17. Укажите названия каждого вида пальто (дафлкот, пальто с запахом, пончо, кейп, кокон, кромби):



1- пончо ; 2- дафлкот ; 3- кокон ;

Шифр участника ТД-19



4- кейп ; 5- кромби ; 6- пальто с Запахом

18. Знаменитую советскую балерину Майю Плисецкую считал своей музой:

- а) Вячеслав Зайцев;
- б) Пьер Карден;
- в) Жан-Поль Готье;
- ✓ г) Игорь Чапурин?



*Технологии домашнего хозяйства*

19. Мама затеяла генеральную уборку дома. Вымыла окна и начала стирать тюлевые шторы. Она стряхнула пыль и замочила шторы в горячей воде, затем добавила порошок и постирала вручную полотно. Отжала их вручную и повесила сушиться. Верные ли действия мамы?

Обоснуй свое мнение. Нет, не совсем. Тюлевые шторы нужно стирать вручную в холодной воде, а отжимать вручную нельзя.

20. Ответь на вопросы и дай верный ответ

а. Как называется внутренний мир дома, складывающийся из отдельных вещей: интерьер

б. Совокупность предметов, которыми обставляют помещение: мебель

в. Оформление интерьера, учитывающее размер помещения, его расположение и освещение: дизайн

г. Оригинальное сочетание пропорций и размеров предметов, удобных для проживания в квартире: \_\_\_\_\_




Шифр участника 70-32

145

**Практическое задание №1**



**Изготовление блока «Шахматка» в технике лоскутного шитья**



Необходимые материалы: х/б ткань размером 500\*100 мм - 2 цвета, нитки в тон.

Описание операции	Графическое изображение
1. Из каждой ткани выкроить полосу размером 60*480мм.	
2. Сложить полосы лицевой стороной внутрь, по длинной стороне сколоть булавками, стачать шириной шва 7 мм. Припуски на швы заутюжить в одну сторону.	
3. Разрезать заготовку на 8 равных частей.	
4. Собрать 4 фрагмента по схеме	

Шифр участника 70-32

	
5. Собрать фрагменты в блок (сшить фрагменты попарно в горизонтальные ряды, затем объединить их в общий блок)	
6. Выполнить окончательную ВТО образца	

**Карта послеоперационного контроля**  
**Изготовление блока «Шахматка» в технике лоскутного шитья**

№	Критерии оценки	Баллы max	Баллы факт
1	Точность края	5	3
2	Ширина припусков 7 мм	2	1,5
3	Ширина квадратов в готовом виде $45 \pm 1$ мм	3	2
4	Припуски заутюжены в одном направлении	2	1,5
5	Блок собран по схеме	2	2
6	Точность сборки (состыковка швов)	4	2
7	Качество окончательной влажно-тепловой обработки (да/нет)	1	1
8	Соблюдение безопасных приемов труда (да/нет)	1	1
	Итого	20	14

Шифр участника ТД-32

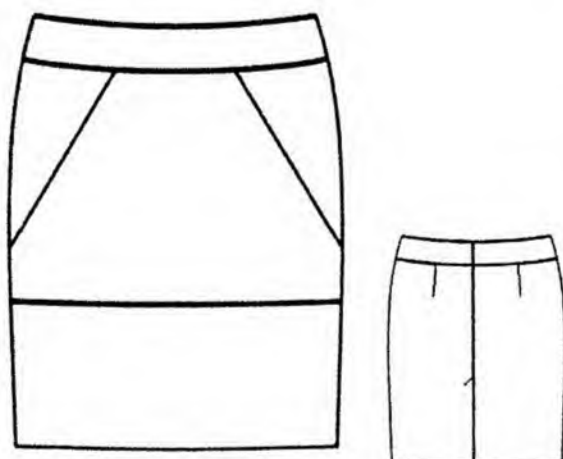
### **Практическое задание №2**

#### **Моделирование поясного изделия по эскизу и подготовка выкройки к раскрою**

#### **Порядок выполнения работы**

1. На основу чертежа поясного изделия нанесите линии фасона. Выполните моделирование.
2. Изготовьте из цветной бумаги лекала для раскладки на ткани.
3. Нанесите на лекала необходимые надписи для раскроя.

Эскиз



Описание модели

Юбка прямого силуэта длиной до середины колена. Верх юбки оформлен обтачкой. На переднем полотнище нанесены конструктивные линии: одна горизонтальная (чуть ниже линии бедер) и две наклонные. На заднем полотнище средний шов заканчивается шлицей. Застежка на молнию в среднем шве.

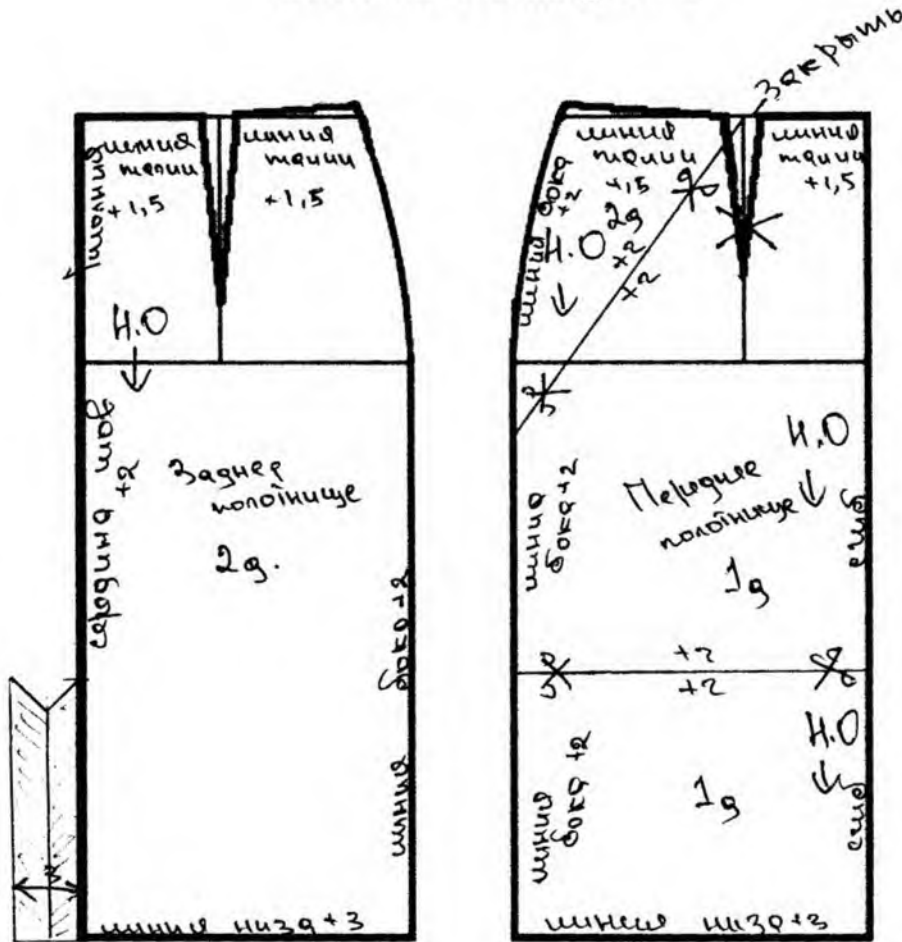
#### **Карта послеоперационного контроля**

№	Критерии оценки	Баллы max	Баллы факт
<b>Нанесение новых линий фасона</b>			
1	Нанесена линия обтачки заднего полотнища	1	0
2	Нанесена линия обтачки переднего полотнища	1	0
3	Нанесена линия нижней части переднего полотнища	3	3
4	Нанесена линия боковой части переднего полотнища	2	2
5	Перенесена вытачка на переднем полотнище	1	1
6	Нанесена линия шлицы	1	1
<b>Подготовка выкроек к раскрою и нанесение надписей на чертеже основы</b>			
7	Выполнены детали обтачек	3	1
8	Указаны названия деталей	2	2
9	Указано количество деталей	2	2
10	Указано направление долевых нитей, сгиба	1	1
11	Указана величина припусков на швы	1	1
12	Чистота выполнения задания	2	2
	Итого	20	16



Шифр участника TD-32

Нанесение линий фасона



11 носок +2  
 +2 Н.О. +1



ВСЕРОССИЙСКАЯ ОЛИМПИАДА ШКОЛЬНИКОВ 2017/2018 гг.  
МУНИЦИПАЛЬНЫЙ ЭТАП  
ТЕХНОЛОГИЯ

КУЛЬТУРА ДОМА И ДЕКОРАТИВНО-ПРИКЛАДНОЕ ТВОРЧЕСТВО

8 - 9 КЛАСС

Шифр участника

715-32

155

Уважаемый участник!

Теоретические задания первого тура состоят из 25 заданий, в которых предложены тесты с одним или несколькими правильными ответами. Также предложены теоретические вопросы, на которые следует дать исчерпывающий ответ и творческое задание.

Задача участника: внимательно ознакомиться с предложенными заданиями и выполнить их в строгом соответствии с формулировкой.

Каждый правильный ответ в заданиях с 1 по 24 оценивается в 1 балл.

Задание 25 оценивается в 11 баллов.

Всего за теоретический тур максимальное количество баллов, которое может набрать участник, составляет 35 баллов.

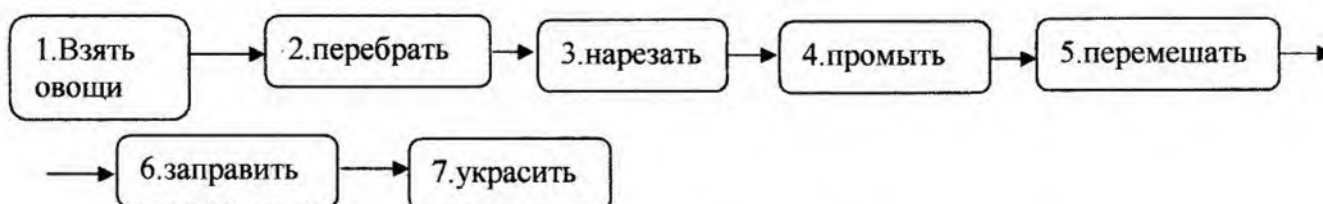
Длительность 1-го тура (теоретического) составляет 1,5 часа (90 минут).

Шифр участника 10-32

### Кулинария

Выберите правильный ответ

1. Какие действия в цепочке приготовления салата из сырых овощей необходимо поменять местами?



- а) 3-4, 6-7
- б) 2-4, 5-6

- в) 3-4, 5-6
- г) 2-3, 6-7

1

2. Какой вид чая не содержит кофеин?

- а) травяной
- б) черный листовой

- в) зеленый
- г) черный пакетированный

1

3. Как называются круглые, открытые сверху и зашипаные только с краёв лепешки с наполнителем?

- а) пирожки
- б) плюшки

- в) эклеры
- г) ватрушки

0

4. Сколько жидкости необходимо взять для варки рассыпчатой пшённой каши если крупы 100г?

- а) 200 мл
- б) 180 мл

- в) 250 мл
- г) 140 мл

0

5. Какой способ консервирования продуктов не применяется в кулинарии?

- а) соление
- б) копчение

- в) пряжение
- г) маринование

1

6. Как называется воздушный пирог из яичных желтков, смешанных с разнообразными ингредиентами, куда затем добавляются взбитые до белых яичные белки?

- а) суфле
- б) меренги

- в) пудинг
- г) желе

0

Шифр участника 10-32

**7. Соотнесите название ткани и ее описание:**

1 - Ангора	А - Легкая ткань простого сетчатого переплетения, за счет которого она приобретает полупрозрачность. Общими свойствами материи являются: тонкость, прозрачность, легкость, хорошая драпируемость. Все эти свойства позволяют создавать легкую многослойную одежду сложного кроя с большим количеством декоративных элементов: оборок, воланов, рюшей и т.п.
2 - Шифон	Б - Название описываемого материала буквально переводится с английского как «тянущийся в обе стороны». Полотно способно растягиваться и увеличиваться на 300%, не мнется, прекрасно отводит влагу, быстро сохнет. В жару в одежде будет очень комфортно, потому что эта ткань способна сохранять прохладу. Это полотно бывает ярких расцветок. Насыщенность цвета сохраняется навсегда, не выгорая на солнце и после стирок. Подходит для изготовления спортивной одежды.
3 - Атлас	В - Ткань изготавливается из шерсти коз. Их отдельные шерстинки могут достигать 30 см длины, обладают мягкостью и шелковистым блеском, имеют природную белую, реже серую или черную окраску. Это сырье использовали для производства самых дорогих шерстяных тканей, шалей, добавки к шелку. Позднее козью шерсть стали заменять пухом длинношерстных кроликов.
4 - Бифлекс	Г - В 1850 году Леви Страус открыл предприятие по пошиву рабочей одежды из этого материала. Немного позже он задумался о создании прочных брюк из парусиновой ткани, которые и стали неизменным облачением смелых ковбоев.
5 - Деним	Д - Плотная шелковая или полуселковая ткань атласного переплетения. Лицевая поверхность получается гладкой и блестящей, внешне напоминающий шелк, но более плотный по структуре. Изнанка полотна остается матовой и шероховатой на ощупь. Из него шьют свадебные, вечерние и нарядные платья, блузы, рубашки, нижнее и постельное белье, декоративные ленты для отделки шляпок, используют в качестве подкладки для пальто.


Ответ: 1 – «В», 2 – «А», 3 – «Д», 4 – «Б», 5 – «Г».

**8. Ткань болонья - это капрон, обработанный полимерным акрилосодержащим составом, легкая, прочная, не пропускает воду и воздух, ей вредят прямые солнечные лучи.**

Исходя из описания ткани, предложите область применения для изготовления руболовных вещей.

Шифр участника TD-32


9. Терморегулятор установлен в определенное положение (см. рисунок). Можно ли в этом положении утюжить капроновые шторы? Поясните ответ.



Ответ: нет, капроновая ткань очень тонкая и не выдержит температуры.  
Швейная машина

10. Какая операция изображена на фото?

обработка шва.



11. Укажите правильную последовательность операций при смене иглы:

- а) ослабьте игольный винт, поворачивая его против часовой стрелки;
- б) выньте иглу из зажима;
- в) поверните на себя маховое колесо, поднимите иглу и опустите прижимную лапку;
- г) отключите питание;
- д) отверткой затяните игольный винт;
- е) вставьте новую иглу плоской стороной от себя.

Ответ: 1 – «Г», 2 – «В», 3 – «А», 4 – «Б», 5 – «Е», 6 – «Д».

### Конструирование и моделирование швейных изделий

12. Размер детской одежды обозначается двумя значениями, например: 128-64. Что это означает?

Ответ: ~~128-64~~ - ~~128~~ эти цифры обозначают  
рост ребенка.

Шифр участника TD-32



13. Какая декоративная деталь объединяет представленные образы?

Оборка



*Технология изготовления швейных изделий*

14. Отметьте, для какого вида застежки нужен рулик?



~~А~~

Б

В

Г

О

15. В схеме сборки юбки пропущена одна операция. Что это за операция и когда она должна выполняться?



Ответ: Операция «сделать выкройку и вырезать из ткани.» должна выполняться после операции «О».

Шифр участника 10-32

16. Фестонами отделывают воротники, манжеты, карманы и другие детали изделия. Фестоны могут иметь различную форму - с острыми и прямыми углами, закругленную.

Приведите правильную последовательность обработки фестонов:

- а) приметать обтачку, складывая ее с деталью лицевыми сторонами внутрь;
- б) выполнить намелку фестонов на изделии;
- в) вывернуть обтачку на лицевую сторону, выправить фестоны и выметать кант;
- г) приутюжить фестоны;
- д) проложить строчку точно по контуру фестонов;
- е) между фестонами сделать рассечки к углам строчки;
- ж) выполнить лекало фестона;
- з) срезать припуски близко к строчке.



Ответ: 1 – «Ж», 2 – «Б», 3 – «А», 4 – «Д», 5 – «Е», 6 – «З», 7 – «В», 8 – «Г».

### История костюма

17. Укажите названия каждого вида пальто (дафлкот, пальто с запахом, нончо, кейн, кокен, кромби):



1- Кокон



2- ~~Кокон~~  
~~Кейн~~  
кейн



3- Кромби

Шифр участника

70-32



4. гафлот

5. ~~капюшон~~

6. капюшон с  
закладом.

18. Знаменитую советскую балерину Майю Плисецкую считал своей музой:

- а) Вячеслав Зайцев;
- ⓐ Пьер Карден;
- в) Жан-Поль Готье;
- г) Игорь Чапурин?

1



### Технологии домашнего хозяйства

19. Мама затеяла генеральную уборку дома. Вымыла окна и начала стирать тюлевые шторы. Она стряхнула пыль и замочила шторы в горячей воде, затем добавила порошок и постирала вручную полотна. Отжала их вручную и повесила сушиться. Верные ли действия мамы? Обоснуй свое мнение. Нет. Она должна была аккуратно

смыть шторы и стряхнуть пыль на улице, т.к.

20. Ответь на вопросы и дай верный ответ дети будут довольны мамой.

а. Как называется внутренний мир дома, складывающийся из отдельных вещей: уют

б. Совокупность предметов, которыми обставляют помещение: интерьер

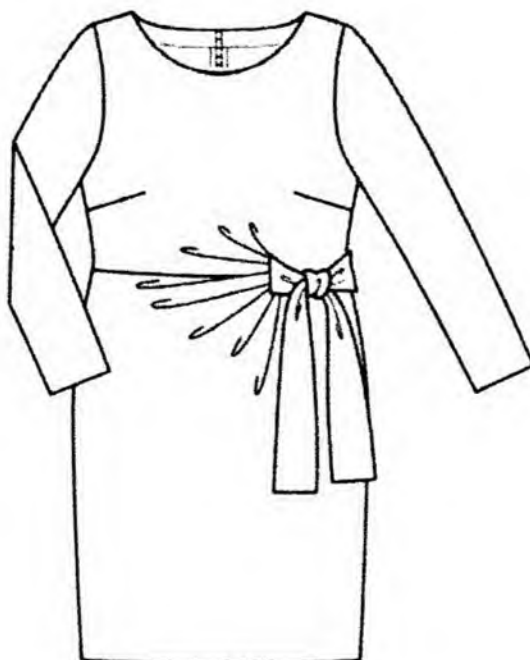
в. Оформление интерьера, учитывающее размер помещения, его расположение и освещение: ренуи

г. Оригинальное сочетание пропорций и размеров предметов, удобных для проживания в квартире: ~~классика~~ модерн






Шифр участника DT-32

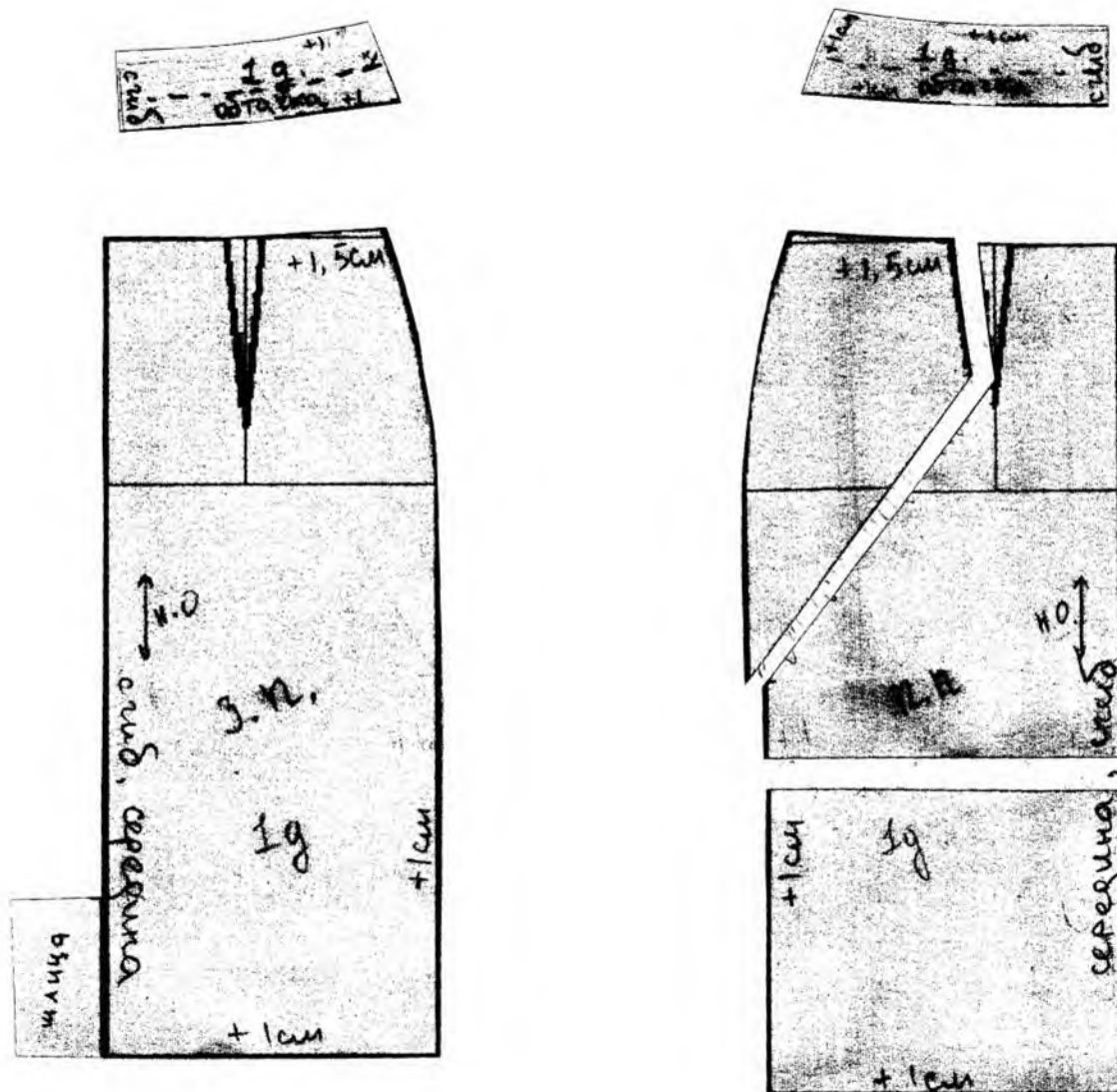


### Результаты моделирования



Шифр участника Т II - 19

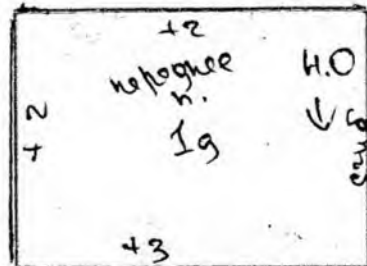
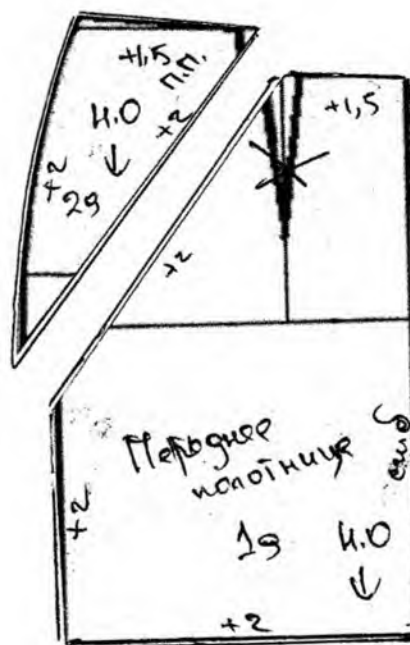
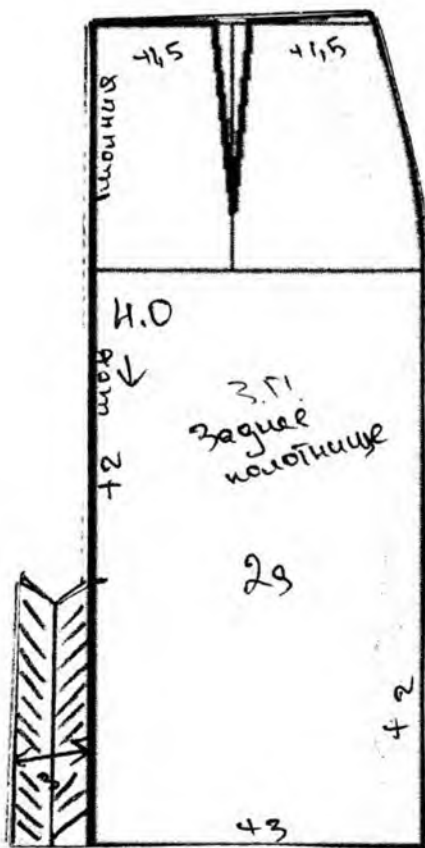
Результаты моделирования



Шифр участника TD-32

Результаты моделирования

+1 +2 +2 +1  
+2 +2 +1  
ноже Н.О ↓ +1



**Практическое задание №1**  
Изготовление блока «Римские полосы» в технике лоскутного шитья





Необходимые материалы: х/б ткань размером 600×50 мм 4 цветов, нитки в тон.

Описание операции	Графическое изображение
<p>1. Из каждой ткани четырех цветов выкроить полосу размером 45×545мм.</p> <p>2. Сложить 2 полосы лицевой стороной внутрь, по длинной стороне сколоть булавками, стачать шириной шва 7 мм. Притачать последовательно еще 2 полосы. Припуски на швы заутюжить в одну сторону.</p>	

145

ТД - 06.

**Муниципальный этап всероссийской олимпиады школьников по технологии (девочки)  
Ханты-Мансийский автономный округ – Югра, 2017-2018 учебный год  
Олимпиадные задания, 7 класс**

3. Разрезать заготовку на 4 равные части (должно получиться 4 квадрата 136×136мм ±2мм).	
4. Собрать блок по схеме (сшить квадраты попарно в горизонтальные ряды, затем объединить их в общий блок)	
5. Выполнить окончательную ВТО образца	

**Карта послеоперационного контроля  
Изготовление блока «Римские полосы» в технике лоскутного шитья**

№	Критерии оценки	Баллы max	Баллы факт
1	Точность края	5	3
2	Ширина припусков 7 мм	2	1
3	Ширина полосок в готовом виде 30±1 мм	3	2
4	Припуски заутюжены в одном направлении	2	1
5	Блок собран по схеме	2	2
6	Точность сборки блока (фрагменты состыкованы в центре)	4	3
7	Качество окончательной влажно-тепловой обработки (да/нет)	1	1
8	Соблюдение безопасных приемов труда (да/нет)	1	1
	Итого	20	14

### Практическое задание №2

#### Моделирование фартука по эскизу и подготовка выкройки к раскрою

##### Порядок выполнения работы

1. На основу чертежа фартука нанесите линии фасона. Выполните моделирование.
2. Изготовьте из цветной бумаги лекала для раскладки на ткани.
3. Нанесите на лекала необходимые надписи для раскроя.

Эскиз



Описание модели

Фартук выполнен из х/б ткани, фиксируется на талии притачным поясом. Застежка на липучку.

На переднике 2 накладных кармана, небольшая сборка по верхнему срезу, нижние углы немного закруглены и украшены оборкой.

Нагрудник квадратной формы.

Фартук завязывается на бретели бантом, бретели украшены оборкой.

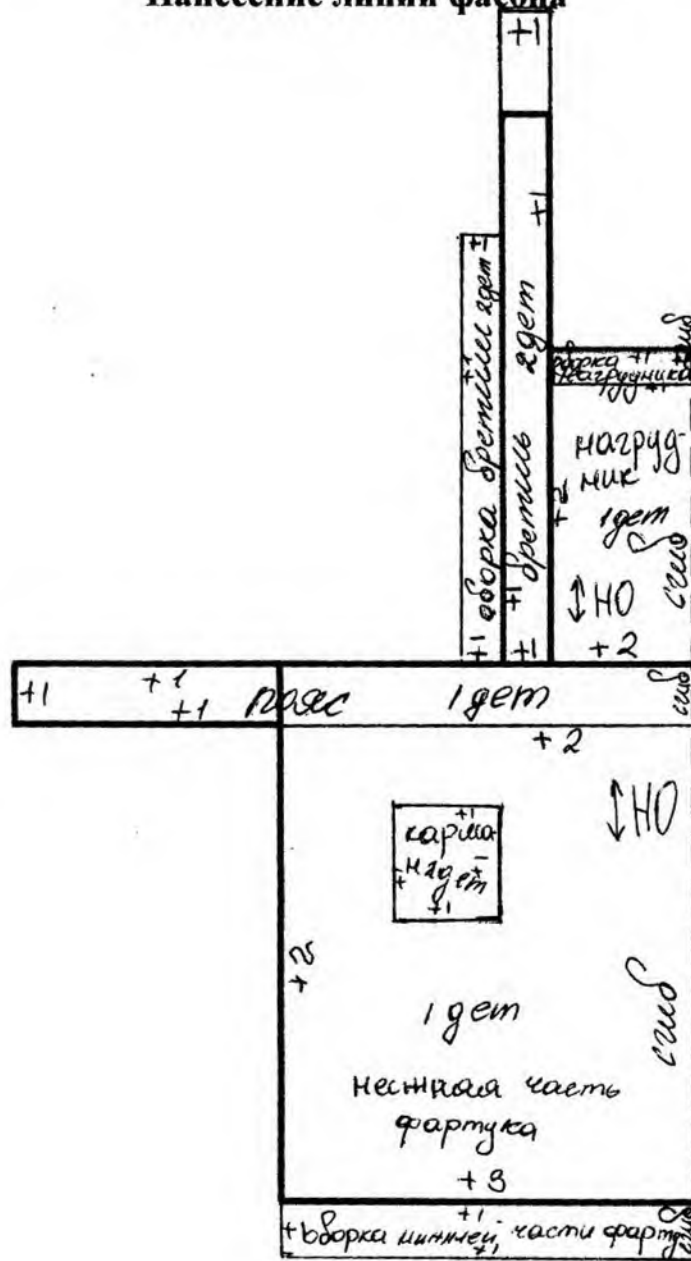
Пояс, бретели, карманы и оборка передника выполнены из контрастной ткани.

#### Карта послеоперационного контроля

№	Критерии оценки	Баллы max	Баллы факт
<b>Нанесение новых линий фасона</b>			
1	Оформлен нижний угол передника	2	0
2	Оформлена линия пояса	2	2
3	Оформлена линия кармана	2	2
4	Добавлена длина бретели	2	2
5	Намечено место расположения кармана	1	1
<b>Подготовка выкроек к раскрою и нанесение надписей на чертеже основы</b>			
6	Построена оборка передника	2	2
7	Построена оборка бретели	2	2
8	Указаны названия деталей	1	1
9	Указано количество деталей	2	2
10	Указано направление долевой нити, сгиба	1	1
11	Указана величина припусков на швы	1	1
12	Чистота выполнения задания	2	1
	Итого	20	17



### Нанесение линий фасона





ВСЕРОССИЙСКАЯ ОЛИМПИАДА ШКОЛЬНИКОВ 2017/2018 гг.  
МУНИЦИПАЛЬНЫЙ ЭТАП  
ТЕХНОЛОГИЯ

КУЛЬТУРА ДОМА И ДЕКОРАТИВНО-ПРИКЛАДНОЕ ТВОРЧЕСТВО

7 КЛАСС

Шифр участника ТД - 06

Уважаемый участник!

Теоретические задания первого тура состоят из 20 заданий, в которых предложены тесты с одним или несколькими правильными ответами. Также предложены теоретические вопросы, на которые следует дать исчерпывающий ответ и творческое задание.

Задача участника: внимательно ознакомиться с предложенными заданиями и выполнить их в строгом соответствии с формулировкой.

Каждый правильный ответ в заданиях с 1 по 19 оценивается в 1 балл.





Задание 20 оценивается в 6 баллов.

Всего за теоретический тур максимальное количество баллов, которое может набрать участник, составляет 25 баллов.





Длительность 1-го тура (теоретического) составляет 1,5 часа (90 минут).

### Кулинария

1. Какой прибор необходимо выбрать, чтобы заварить кофе во французском прессе?

(а)	<input checked="" type="radio"/> (б)	(в)	(г)
			

2. Семья собралась перекусить. Мама для всех сделала его любимый бутерброд. Раздай бутерброды, если папа любит закрытый бутерброд, мама – открытый простой бутерброд, сын – открытый сложный бутерброд, дочь – закусочный.

(1) папа	(2) мама	(3) сын	(4) дочь
A) 	B) 	B) 	Г) 

Ответ: 1 - Г, 2 - А, 3 - Б, 4 - А.

3. Чай получится вкуснее, если....

- а) заваривать в железном чайнике      в) использовать мягкую воду  
б) использовать жесткую воду       г) заваривать в глиняном чайнике

4. Какие овощи относятся к десертной группе овощей:

- а) кольраби       в) батат  
б) ревеня       г) свекла

5. Овощи при огневой сушке не изменяют цвет?

- а) верно       б) неверно

6. Сколько необходимо взять жидкости на 100 г манной крупы, чтобы получилась жидкая манная каша?

- а) 200 мл      в) 1000мл  
 б) 570 мл      г) 100 мл

### Свойства текстильных материалов

7. Соотнесите название ткани и ее описание:

1 - Льняная ткань	А - Особенностью этой ткани является наличие длинного нитяного ворса на одной или двух сторонах полотна. Этот ворс образуется с помощью вытягивания на поверхность
-------------------	--

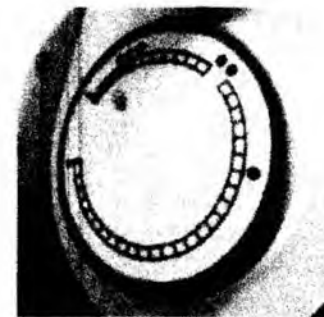
Муниципальный этап всероссийской олимпиады школьников по технологии (девочки)  
Ханты-Мансийский автономный округ – Югра, 2017-2018 учебный год  
Олимпиадные задания, 7 класс

	петель из неплотно натянутой нити основы. Петли могут быть неразрезными, стриженными и даже образовывать рельефный орнамент. Из ткани изготавливают домашние халаты и полотенца.
2 - Шотландка	Б - Ткань из хлопка, на лицевой стороне которой видны прямые рубчики по всей длине отрезка, параллельные кромке.
3 - Фланель	В - Натуральная ткань имеет сероватый оттенок, который исчезает при воздействии влаги и солнечных лучей. По старинной технологии для отбеливания новые полотна расстилали так, чтобы их достаточно долгое время смачивала роса, затем высушивало солнце.
4 – Махровая ткань	Г - Мягкая ткань с начесом, сделанная из хлопка, шерсти или полушерсти. Хорошо сохраняет тепло, обладает потрясающей гигроскопичностью. Материал имеет разное назначение: от домашней одежды для взрослых и детей до пеленок.
5 - Вельвет	Д - Ткань в клеточку, чье название прямо указывает на страну ее происхождения. Изготавливается способом саржевого переплетения из заранее окрашенных нитей, располагающихся крестообразно. Цвета и сложность узора прямо указывали на статус человека.

Ответ: 1 – «Г», 2 – «Б», 3 – «В», 4 – «А», 5 – «Д».

0

**8. Терморегулятор утюга установлен в определенное положение (см. рисунок). Можно ли в этом положении утюжить льняную скатерть? Поясните ответ.**



Да. Льняная ткань выдерживает  
высокую температуру.

### Швейная машина

**9. Укажите правильную последовательность операций при заправке шпульного колпачка:**

- поместите шпульку в шпульный колпачок;
- протяните нить под пружиной натяжения и выведите в отверстие колпачка;
- вытяните нить сквозь щель шпульного колпачка;
- оставьте около 10 см свободной нити.


0

Ответ: 1 – «А», 2 – «Г», 3 – «Б», 4 – «В».

10. В каких случаях используется двойная игла?

Ответ:

В случае когда ткань  
слонна в шитье.



**Конструирование и моделирование швейных изделий**

11. Как называется операция переноса нагрудной вытачки? Перенос нагрудной вы-  
тачки.


12. Почему чертеж строят на одну половину фигуры?

Ответ: Потому что вторая часть  
изделия будет симметрична первой.



**Технология изготовления швейных изделий**

13. Очень часто швейные изделия декорируются сутажем. Предложите способы настрачивания сутажного шнура.

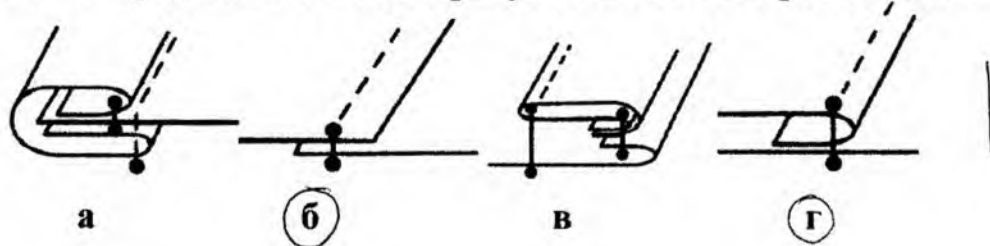


Ответ:

1 способ Пришить в ручную  
на швейной машине.

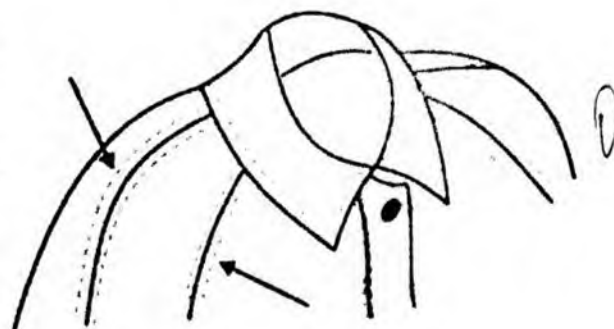
2 способ Пришить:

14. Из представленных на рисунке швов выберите соединительные швы:



15. Прокладывание машинных строчек на деталях для закрепления припусков шва, направленных в противоположные стороны, называется


Декоративный шов



### История костюма

16. Установите соответствие внешнего вида изделия его названию (худи, водолазка, свитшот, пуловер, кардиган, джемпер):

Муниципальный этап всероссийской олимпиады школьников по технологии (девочки)  
Ханты-Мансийский автономный округ – Югра, 2017-2018 учебный год  
Олимпиадные задания, 7 класс



1 - пуловер; 2 - джемпер; 3 - свитшот;



4 - кардиган; 5 - худи; 6 - водолазка.

17. Что явилось прототипом представленного на рисунке жакета:

- а – польский контуш,
- б – гусарский ментик,
- в – казацкий чекмень,
- г – кавказский архалук,
- д – гренадерский мундир?



*Технологии домашнего хозяйства*

18. В жилом помещении поклеены обои фиолетового оттенка, ковёр на полу синего цвета и портьеры жёлтого оттенка. Какие элементы интерьера сочетаются по цветовой гамме?

- а) Ковёр и обои
- б) Ковёр и портьеры
- в) Обои и портьеры
- г) Ковёр, обои и портьеры

19. По описанию определи, о каком виде обоев идёт речь. Напиши название.

а. Натуральный материал. Выраженная текстура. Оттенки коричневого, бежевого, песочного, золотистого. Долговечность. Толщина составляет около 2 мм. Высокие теплоизоляционные, звукоизоляционные свойства: Дерева обои

б. Заготовки в виде стеклянных кубиков. Тянут тонкие нити. Полотно. Стеклоткань. Добавки на основе крахмала: Стекланиты

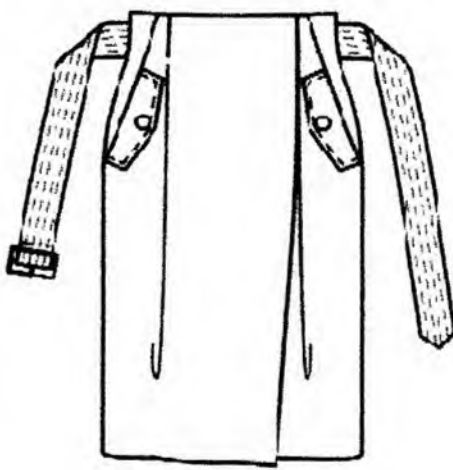
в. Основной компонент целлюлоза. Декоративные волокна. Блёстки. Не имеют стыков. Срок службы 6-8 лет. Необычная рельефная структура: Шёлковые обои

г. Натуральный материал: шелк, лен, хлопок, джут, велюр. Бумажная или флизелиновая основа. Используют в интерьерах в восточном стиле. Бесшовное покрытие. Низкая устойчивость к пыли, грязи, запахам, влаги и воздействию домашних животных: Тканевые обои

20. Творческое задание:

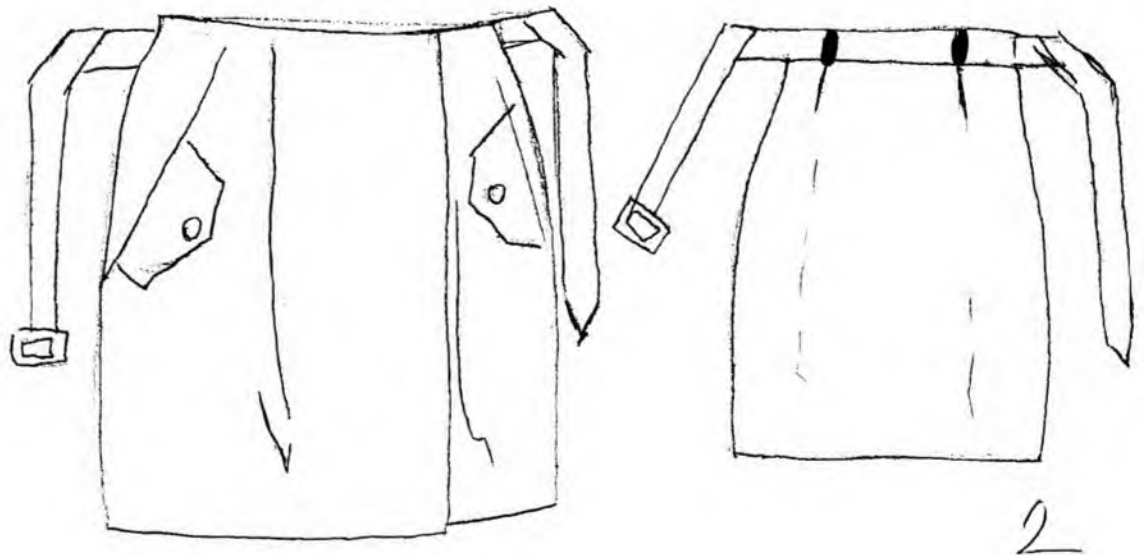
Ваша подружка купила новую юбку, но не знает, с чем ее надеть. Помогите подружке – нарисуйте эскиз плечевого изделия, подходящего к юбке на рисунке на 8 странице. Поясните свое решение.

Я нарисовала эскиз ~~плечевого изделия~~ <sup>накетта</sup>. Потому что  
он будет хорошо подходить к юбке.  
И накетт неотъемлемый аксессуар в одежде.

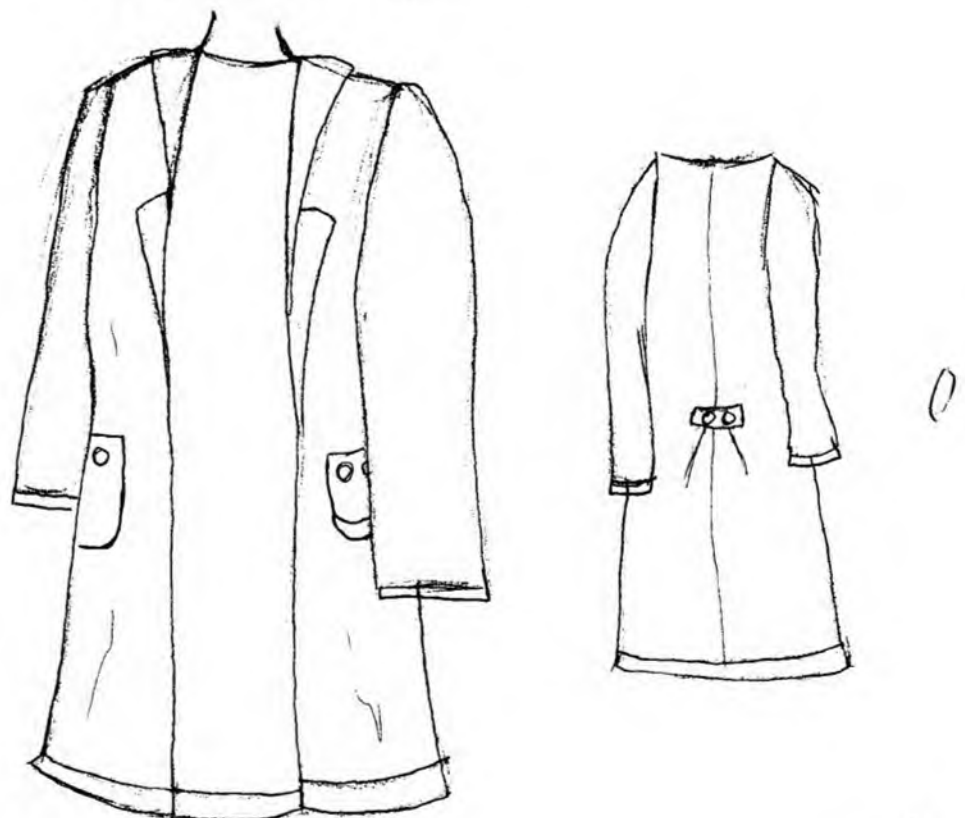




Эскиз юбки




Эскиз плечевого изделия



Шифр участника ТН-24 3

**Практическое задание №1**



**Изготовление блока «Шахматка» в технике лоскутного шитья**



Необходимые материалы: х/б ткань размером 500\*100 мм - 2 цвета, нитки в тон.

Описание операции	Графическое изображение
1. Из каждой ткани выкроить полосу размером 60*480мм.	
2. Сложить полосы лицевой стороной внутрь, по длинной стороне сколоть булавками, стачать шириной шва 7 мм. Припуски на швы заутюжить в одну сторону.	
3. Разрезать заготовку на 8 равных частей.	
4. Собрать 4 фрагмента по схеме	

Шифр участника ТД-24

	
<p>5. Собрать фрагменты в блок (сшить фрагменты попарно в горизонтальные ряды, затем объединить их в общий блок)</p>	
<p>6. Выполнить окончательную ВТО образца</p>	

**Карта послеоперационного контроля  
Изготовление блока «Шахматка» в технике лоскутного шитья**

№	Критерии оценки	Баллы max	Баллы факт
1	Точность кроя	5	1
2	Ширина припусков 7 мм	2	0
3	Ширина квадратов в готовом виде 45±1 мм	3	0
4	Припуски заутюжены в одном направлении	2	0
5	Блок собран по схеме	2	1
6	Точность сборки (состыковка швов)	4	0
7	Качество окончательной влажно-тепловой обработки (да/нет)	1	0
8	Соблюдение безопасных приемов труда (да/нет)	1	1
	Итого	20	3

Шифр участника ТН-24

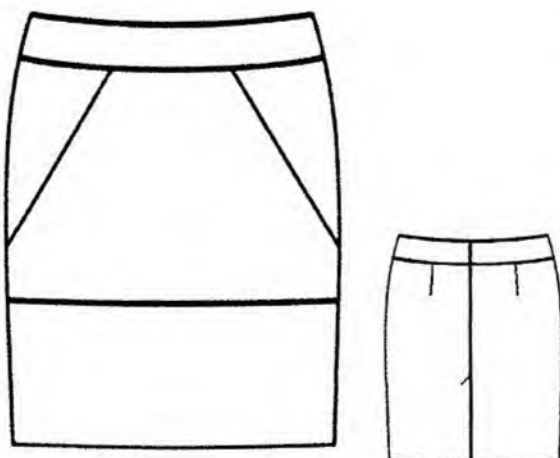
**Практическое задание №2**

**Моделирование поясного изделия по эскизу  
и подготовка выкройки к раскрою**

**Порядок выполнения работы**

1. На основу чертежа поясного изделия нанесите линии фасона. Выполните моделирование.
2. Изготовьте из цветной бумаги лекала для раскладки на ткани.
3. Нанесите на лекала необходимые надписи для раскроя.

Эскиз



Описание модели

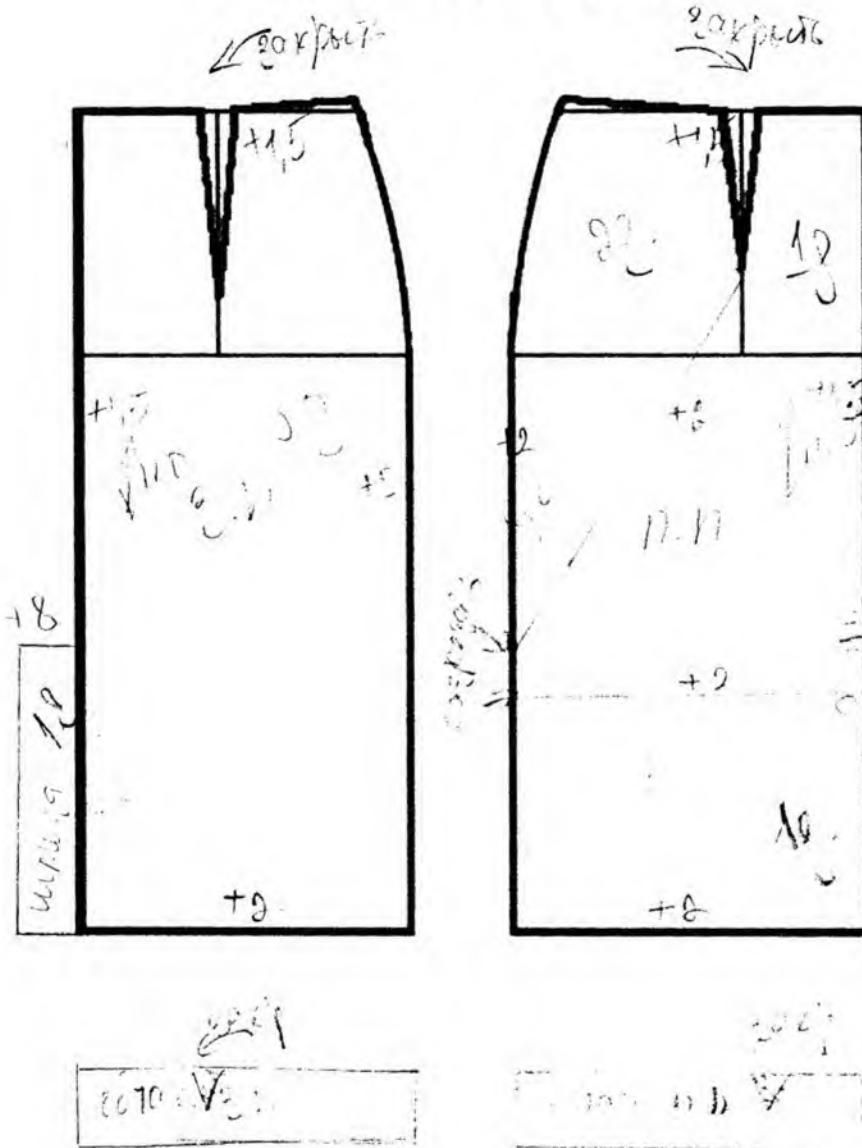
Юбка прямого силуэта длиной до середины колена. Верх юбки оформлен обтачкой. На переднем полотнище нанесены конструктивные линии: одна горизонтальная (чуть ниже линии бедер) и две наклонные. На заднем полотнище средний шов заканчивается шлицей. Застежка на молнию в среднем шве.

**Карта послеоперационного контроля**

№	Критерии оценки	Баллы max	Баллы факт
<b>Нанесение новых линий фасона</b>			
1	Нанесена линия обтачки заднего полотнища	1	0
2	Нанесена линия обтачки переднего полотнища	1	0
3	Нанесена линия нижней части переднего полотнища	3	3
4	Нанесена линия боковой части переднего полотнища	2	2
5	Перенесена вытачка на переднем полотнище	1	1
6	Нанесена линия шлицы	1	1
<b>Подготовка выкроек к раскрою и нанесение надписей на чертеже основы</b>			
7	Выполнены детали обтачек	3	3
8	Указаны названия деталей	2	2
9	Указано количество деталей	2	2
10	Указано направление долевых нитей, сгиба	1	1
11	Указана величина припусков на швы	1	1
12	Чистота выполнения задания	2	2
	<b>Итого</b>	<b>20</b>	<b>18</b>

Шифр участника 19-24

**Нанесение линий фасона**





ВСЕРОССИЙСКАЯ ОЛИМПИАДА ШКОЛЬНИКОВ 2017/2018 гг.  
МУНИЦИПАЛЬНЫЙ ЭТАП  
ТЕХНОЛОГИЯ

КУЛЬТУРА ДОМА И ДЕКОРАТИВНО-ПРИКЛАДНОЕ ТВОРЧЕСТВО

8 - 9 КЛАСС

Шифр участника ТД-24 14

Уважаемый участник!

Теоретические задания первого тура состоят из 25 заданий, в которых предложены тесты с одним или несколькими правильными ответами. Также предложены теоретические вопросы, на которые следует дать исчерпывающий ответ и творческое задание.

Задача участника: внимательно ознакомиться с предложенными заданиями и выполнить их в строгом соответствии с формулировкой.

Каждый правильный ответ в заданиях с 1 по 24 оценивается в 1 балл.

Задание 25 оценивается в 11 баллов.

Всего за теоретический тур максимальное количество баллов, которое может набрать участник, составляет 35 баллов.

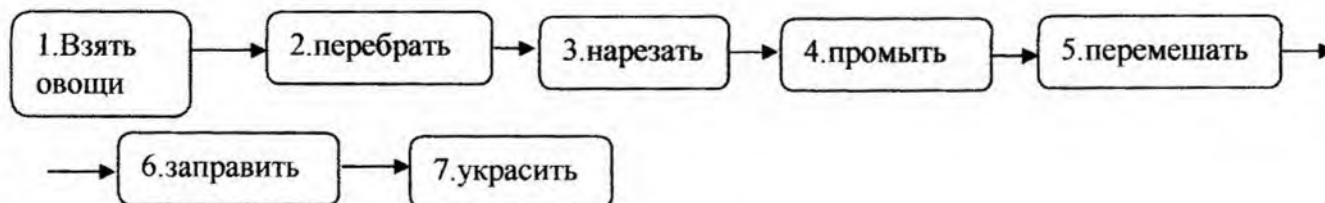
Длительность 1-го тура (теоретического) составляет 1,5 часа (90 минут).

Шифр участника 7D-24

### Кулинария

**Выберите правильный ответ**

**1. Какие действия в цепочке приготовления салата из сырых овощей необходимо поменять местами?**



а) 3-4, 6-7

б) 2-4, 5-6

в) 3-4, 5-6

г) 2-3, 6-7

**2. Какой вид чая не содержит кофеин?**

а) травяной

б) черный листовый

в) зеленый

г) черный пакетированный

**3. Как называются круглые, открытые сверху и защипанные только с краёв лепешки с наполнителем?**

а) пирожки

б) плюшки

в) эклеры

г) ватрушки

**4. Сколько жидкости необходимо взять для варки рассыпчатой пшённой каши если крупы 100г?**

а) 200 мл

б) 180 мл

в) 250 мл

г) 140 мл

**5. Какой способ консервирования продуктов не применяется в кулинарии?**

а) соление

б) копчение

в) пряжение

г) маринование

**6. Как называется воздушный пирог из яичных желтков, смешанных с разнообразными ингредиентами, куда затем добавляются взбитые до бела яичные белки?**

а) суфле

б) меренги

в) пудинг

г) желе

*Свойства текстильных материалов*

Шифр участника TR-24

**7. Соотнесите название ткани и ее описание:**

1 - Ангора	А - Легкая ткань простого сетчатого переплетения, за счет которого она приобретает полупрозрачность. Общими свойствами материи являются: тонкость, прозрачность, легкость, хорошая драпируемость. Все эти свойства позволяют создавать легкую многослойную одежду сложного кроя с большим количеством декоративных элементов: оборок, воланов, рюшей и т.п.
2 - Шифон	Б - Название описываемого материала буквально переводится с английского как «тянущийся в обе стороны». Полотно способно растягиваться и увеличиваться на 300%, не мнется, прекрасно отводит влагу, быстро сохнет. В жару в одежде будет очень комфортно, потому что эта ткань способна сохранять прохладу. Это полотно бывает ярких расцветок. Насыщенность цвета сохраняется навсегда, не выгорая на солнце и после стирок. Подходит для изготовления спортивной одежды.
3 - Атлас	В - Ткань изготавливается из шерсти коз. Их отдельные шерстинки могут достигать 30 см длины, обладают мягкостью и шелковистым блеском, имеют природную белую, реже серую или черную окраску. Это сырье использовали для производства самых дорогих шерстяных тканей, шалей, добавки к шелку. Позднее козью шерсть стали заменять пухом длинношерстных кроликов.
4 - Бифлекс	Г - В 1850 году Леви Страус открыл предприятие по пошиву рабочей одежды из этого материала. Немного позже он задумался о создании прочных брюк из парусиновой ткани, которые и стали неизменным облачением смелых ковбоев.
5 - Деним	Д - Плотная шелковая или полуселковая ткань атласного переплетения. Лицевая поверхность получается гладкой и блестящей, внешне напоминающий шелк, но более плотный по структуре. Изнанка полотна остается матовой и шероховатой на ощупь. Из него шьют свадебные, вечерние и нарядные платья, блузы, рубашки, нижнее и постельное белье, декоративные ленты для отделки шляпок, используют в качестве подкладки для пальто.

1  
Ответ: 1 – «В», 2 – «А», 3 – «Д», 4 – «Б», 5 – «Г».


1  
**8. Ткань болонья - это капрон, обработанный полимерным акрилодерживающим составом, легкая, прочная, не пропускает воду и воздух, ей вредят прямые солнечные лучи.**

Исходя из описания ткани, предложите область применения зимние костюмы, средства спортивной зимней обуви, детские зимние шапки



Шифр участника 10-24

9. Терморегулятор установлен в определенное положение (см. рисунок). Можно ли в этом положении утюжить капроновые шторы? Поясните ответ.




1  
0  
Ответ: Нельзя, так как они начнут плавиться и прикипать к утюгу.

### Швейная машина

10. Какая операция изображена на фото?

0  
Обработка нижнего среза ткани с одним срезами



11. Укажите правильную последовательность операций при смене иглы:

- а) ослабьте игольный винт, поворачивая его против часовой стрелки;
- б) выньте иглу из зажима;
- в) поверните на себя маховое колесо, поднимите иглу и опустите прижимную лапку;
- 1 г) отключите питание;
- д) отверткой затяните игольный винт;
- е) вставьте новую иглу плоской стороной от себя.

0  
1  
Ответ: 1 – «г», 2 – «в», 3 – «а», 4 – «б», 5 – «е», 6 – «д».

### Конструирование и моделирование швейных изделий

12. Размер детской одежды обозначается двумя значениями, например: 128-64. Что это означает?

0  
1  
Ответ: размер подходит для детей ростом от 128 см до 164 см.

Шифр участника ТД-24

13. Какая декоративная деталь объединяет представленные образы?

оборка



*Технология изготовления швейных изделий*

14. Отметьте, для какого вида застежки нужен рулик?




а



б



в



г

15. В схеме сборки юбки пропущена одна операция. Что это за операция и когда она должна выполняться?



Ответ: Операция «обработка верхнего среза, притачивание пояса или резинки» должна выполняться после операции «3».

Шифр участника 7D-24

16. Фестонами отделывают воротники, манжеты, карманы и другие детали изделия. Фестоны могут иметь различную форму - с острыми и прямыми углами, закругленную.

Приведите правильную последовательность обработки фестонов:

- а) приметать обтачку, складывая ее с деталью лицевыми сторонами внутрь;  
б) выполнить намелку фестонов на изделии;  
в) вывернуть обтачку на лицевую сторону, выправить фестоны и выметать кант;  
г) приутюжить фестоны;  
д) проложить строчку точно по контуру фестонов;  
е) между фестонами сделать рассечки к углам строчки;  
ж) выполнить лекало фестона;  
з) срезать припуски близко к строчке.



Ответ: 1 - «ж», 2 - «б», 3 - «а», 4 - «в», 5 - «е», 6 - «д», 7 - «з», 8 - «г».

#### История костюма

17. Укажите названия каждого вида пальто (дафлкот, пальто с запахом, пончо, кейп, кокон, кромби):



1 - кромби

2 - кокон

3 - кейп

Шифр участника ТД-24



4 - забракот ; 5 - пончо ; 6 - с запахом

18. Знаменитую советскую балерину Майю Плисецкую считал своей музой:

- а) Вячеслав Зайцев;
- б) Пьер Карден;
- в) Жан-Поль Готье;
- г) Игорь Чапурин?



#### Технологии домашнего хозяйства

19. Мама затеяла генеральную уборку дома. Вымыла окна и начала стирать тюлевые шторы. Она стряхнула пыль и замочила шторы в горячей воде, затем добавила порошок и постирала вручную полотна. Отжала их вручную и повесила сушиться. Верные ли действия мамы? Обоснуй свое мнение. зе реалствине неверны, я бы постирнула в стиральной машине выжав соответствующую режимную стирку.

20. Ответь на вопросы и дай верный ответ

а. Как называется внутренний мир дома, складывающийся из отдельных вещей: интерьер

б. Совокупность предметов, которыми обставляют помещение: мебель

в. Оформление интерьера, учитывающее размер помещения, его расположение и освещение: стилизация

г. Оригинальное сочетание пропорций и размеров предметов, удобных для проживания в квартире: распределение



Шифр участника TR-24









Шифр участника ТД-33

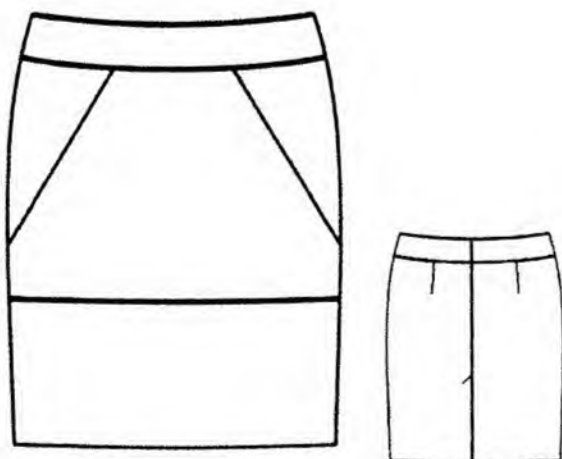
**Практическое задание №2**

**Моделирование поясного изделия по эскизу  
и подготовка выкройки к раскрою**

**Порядок выполнения работы**

1. На основу чертежа поясного изделия нанесите линии фасона. Выполните моделирование.
2. Изготовьте из цветной бумаги лекала для раскладки на ткани.
3. Нанесите на лекала необходимые надписи для раскроя.

Эскиз



Описание модели

Юбка прямого силуэта длиной до середины колена. Верх юбки оформлен обтачкой.  
На переднем полотнище нанесены конструктивные линии: одна горизонтальная (чуть ниже линии бедер) и две наклонные.  
На заднем полотнище средний шов заканчивается шлицей. Застежка на молнию в среднем шве.

**Карта послеоперационного контроля**

№	Критерии оценки	Баллы max	Баллы факт
<b>Нанесение новых линий фасона</b>			
1	Нанесена линия обтачки заднего полотнища	1	1
2	Нанесена линия обтачки переднего полотнища	1	1
3	Нанесена линия нижней части переднего полотнища	3	3
4	Нанесена линия боковой части переднего полотнища	2	2
5	Перенесена вытачка на переднем полотнище	1	1
6	Нанесена линия шлицы	1	1
<b>Подготовка выкроек к раскрою и нанесение надписей на чертеже основы</b>			
7	Выполнены детали обтачек	3	2
8	Указаны названия деталей	2	1
9	Указано количество деталей	2	1
10	Указано направление долевых нитей, сгиба	1	0
11	Указана величина припусков на швы	1	0
12	Чистота выполнения задания	2	1
	Итого	20	14



ВСЕРОССИЙСКАЯ ОЛИМПИАДА ШКОЛЬНИКОВ 2017/2018 гг.

МУНИЦИПАЛЬНЫЙ ЭТАП

ТЕХНОЛОГИЯ

КУЛЬТУРА ДОМА И ДЕКОРАТИВНО-ПРИКЛАДНОЕ ТВОРЧЕСТВО

8 - 9 КЛАСС

Шифр участника ТД - 33

155

Уважаемый участник!

Теоретические задания первого тура состоят из 25 заданий, в которых предложены тесты с одним или несколькими правильными ответами. Также предложены теоретические вопросы, на которые следует дать исчерпывающий ответ и творческое задание.

Задача участника: внимательно ознакомиться с предложенными заданиями и выполнить их в строгом соответствии с формулировкой.

Каждый правильный ответ в заданиях с 1 по 24 оценивается в 1 балл.

Задание 25 оценивается в 11 баллов.

Всего за теоретический тур максимальное количество баллов, которое может набрать участник, составляет 35 баллов.

Длительность 1-го тура (теоретического) составляет 1,5 часа (90 минут).

Шифр участника ТД - 33

### Кулинария

Выберите правильный ответ

1. Какие действия в цепочке приготовления салата из сырых овощей необходимо поменять местами?



а) 3-4, 6-7

б) 2-4, 5-6

в) 3-4, 5-6

г) 2-3, 6-7

2. Какой вид чая не содержит кофеин?

1  а) травяной

б) черный листовой

в) зеленый

г) черный пакетированный

3. Как называются круглые, открытые сверху и защипанные только с краёв лепешки с наполнителем?

1 а) пирожки

б) плюшки

в) эклеры

г) ватрушки

4. Сколько жидкости необходимо взять для варки рассыпчатой пшённой каши если крупы 100г?

0  а) 200 мл

б) 180 мл

в) 250 мл

г) 140 мл

5. Какой способ консервирования продуктов не применяется в кулинарии?

1 а) соление

б) копчение

в) пряжение

г) маринование

6. Как называется воздушный пирог из яичных желтков, смешанных с разнообразными ингредиентами, куда затем добавляются взбитые до бела яичные белки?

0 а) суфле

б) меренги

в) пудинг

г) желе

Свойства текстильных материалов

Шифр участника TD-33

**7. Соотнесите название ткани и ее описание:**

1 - Ангора	А - Легкая ткань простого сетчатого переплетения, за счет которого она приобретает полупрозрачность. Общими свойствами материи являются: тонкость, прозрачность, легкость, хорошая драпируемость. Все эти свойства позволяют создавать легкую многослойную одежду сложного кроя с большим количеством декоративных элементов: оборок, воланов, рюшей и т.п.
2 - Шифон	Б - Название описываемого материала буквально переводится с английского как «тянущийся в обе стороны». Полотно способно растягиваться и увеличиваться на 300%, не мнется, прекрасно отводит влагу, быстро сохнет. В жару в одежде будет очень комфортно, потому что эта ткань способна сохранять прохладу. Это полотно бывает ярких расцветок. Насыщенность цвета сохраняется навсегда, не выгорая на солнце и после стирок. Подходит для изготовления спортивной одежды.
3 - Атлас	В - Ткань изготавливается из шерсти коз. Их отдельные шерстинки могут достигать 30 см длины, обладают мягкостью и шелковистым блеском, имеют природную белую, реже серую или черную окраску. Это сырье использовали для производства самых дорогих шерстяных тканей, шалей, добавки к шелку. Позднее козью шерсть стали заменять пухом длинношерстных кроликов.
4 - Бифлекс	Г - В 1850 году Леви Страус открыл предприятие по пошиву рабочей одежды из этого материала. Немного позже он задумался о создании прочных брюк из парусиновой ткани, которые и стали неизменным облачением смелых ковбоев.
5 - Деним	Д - Плотная шелковая или полупшелковая ткань атласного переплетения. Лицевая поверхность получается гладкой и блестящей, внешне напоминающий шелк, но более плотный по структуре. Изнанка полотна остается матовой и шероховатой на ощупь. Из него шьют свадебные, вечерние и нарядные платья, блузы, рубашки, нижнее и постельное белье, декоративные ленты для отделки шляпок, используют в качестве подкладки для пальто.

Ответ: 1 – «Г», 2 – «А», 3 – «В», 4 – «Б», 5 – «Д».

**8. Ткань болонья - это капрон, обработанный полимерным акрилодерживающим составом, легкая, прочная, не пропускает воду и воздух, ей вредят прямые солнечные лучи.**

**Исходя из описания ткани, предложите область применения**

зимняя - осенняя одежда  
(пальто, куртки)

Шифр участника TD-33


1 9. Терморегулятор установлен в определенное положение (см. рисунок). Можно ли в этом положении уютить капроновые шторы? Поясните ответ.



Ответ: Нет, тк терморегулятор установлен на слишком высокой температуре и капрон попросту раставится  
*Швейная машина*

10. Какая операция изображена на фото?

0 Обработка края изделия



1 11. Укажите правильную последовательность операций при смене иглы:

- а) ослабьте игольный винт, поворачивая его против часовой стрелки;
- б) выньте иглу из зажима;
- в) поверните на себя маховое колесо, поднимите иглу и опустите прижимную лапку;
- г) отключите питание;
- д) отверткой затяните игольный винт;
- е) вставьте новую иглу плоской стороной от себя.

Ответ: 1 – «Г», 2 – «В», 3 – «А», 4 – «Б», 5 – «Е», 6 – «Д».

### *Конструирование и моделирование швейных изделий*

0 12. Размер детской одежды обозначается двумя значениями, например: 128-64. Что это означает?

Ответ: рост - половина роста

Шифр участника ТД-33

13. Какая декоративная деталь объединяет представленные образы?  
сборка, драпировка



Технология изготовления швейных изделий

14. Отметьте, для какого вида застежки нужен рулик?



а



б



в



г

15. В схеме сборки юбки пропущена одна операция. Что это за операция и когда она должна выполняться?



Ответ: Операция « Разрез шлицы » (разрезание шлицы) должна выполняться после операции « 4 ».

Шифр участника FD - 33

16. Фестонами отделывают воротники, манжеты, карманы и другие детали изделия. Фестоны могут иметь различную форму - с острыми и прямыми углами, закругленную.

Приведите правильную последовательность обработки фестонов:

- а) приметать обтачку, складывая ее с деталью лицевыми сторонами внутрь;
- б) выполнить намелку фестонов на изделии;
- в) вывернуть обтачку на лицевую сторону, выправить фестоны и выметать кант;
- г) приутюжить фестоны;
- д) проложить строчку точно по контуру фестонов;
- е) между фестонами сделать рассечки к углам строчки;
- ж) выполнить лекало фестона;
- з) срезать припуски близко к строчке.



Ответ: 1 - «ж», 2 - «б», 3 - «з», 4 - «д», 5 - «а», 6 - «в», 7 - «г», 8 - «е».

### История костюма

17. Укажите названия каждого вида пальто (дафлкот, пальто с запахом, пончо, кейп, кокон, кромби):



1 - кейп ; 2 - кокон ; 3 - кромби ;

Шифр участника

TD-33



4. двурядник

5. пальто

6. пальто с замочком

18. Знаменитую советскую балерину Майю Плисецкую считал своей музой:

- а) Вячеслав Зайцев;
- б) Пьер Карден;
- в) Жан-Поль Готье;
- г) Игорь Чапурин?



*Технологии домашнего хозяйства*

19. Мама затеяла генеральную уборку дома. Вымыла окна и начала стирать тюлевые шторы. Она стряхнула пыль и замочила шторы в горячей воде, затем добавила порошок и постирала вручную полотна. Отжала их вручную и повесила сушиться. Верные ли действия мамы?

Обоснуй свое мнение. Лучше стирать в стиральной машине где можно выставить специальную режим или температуру и стирать вручную

20. Ответь на вопросы и дай верный ответ

- а. Как называется внутренний мир дома, складывающийся из отдельных вещей: обстановка интерьера и декора
- б. Совокупность предметов, которыми обставляют помещение: декор (предметы интерьера)
- в. Оформление интерьера, учитывающее размер помещения, его расположение и освещение: дизайн, стиль
- г. Оригинальное сочетание пропорций и размеров предметов, удобных для проживания в квартире: интерьер





Шифр участника \_\_\_\_\_

ТД-33




17-08

Муниципальный этап всероссийской олимпиады школьников по технологии (девочки)  
Ханты-Мансийский автономный округ – Югра, 2017-2018 учебный год  
Олимпиадные задания, 7 класс


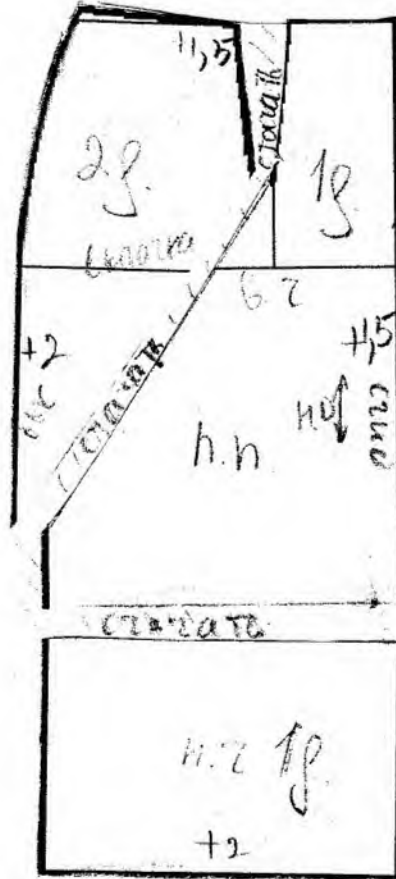

---

### Результаты моделирования



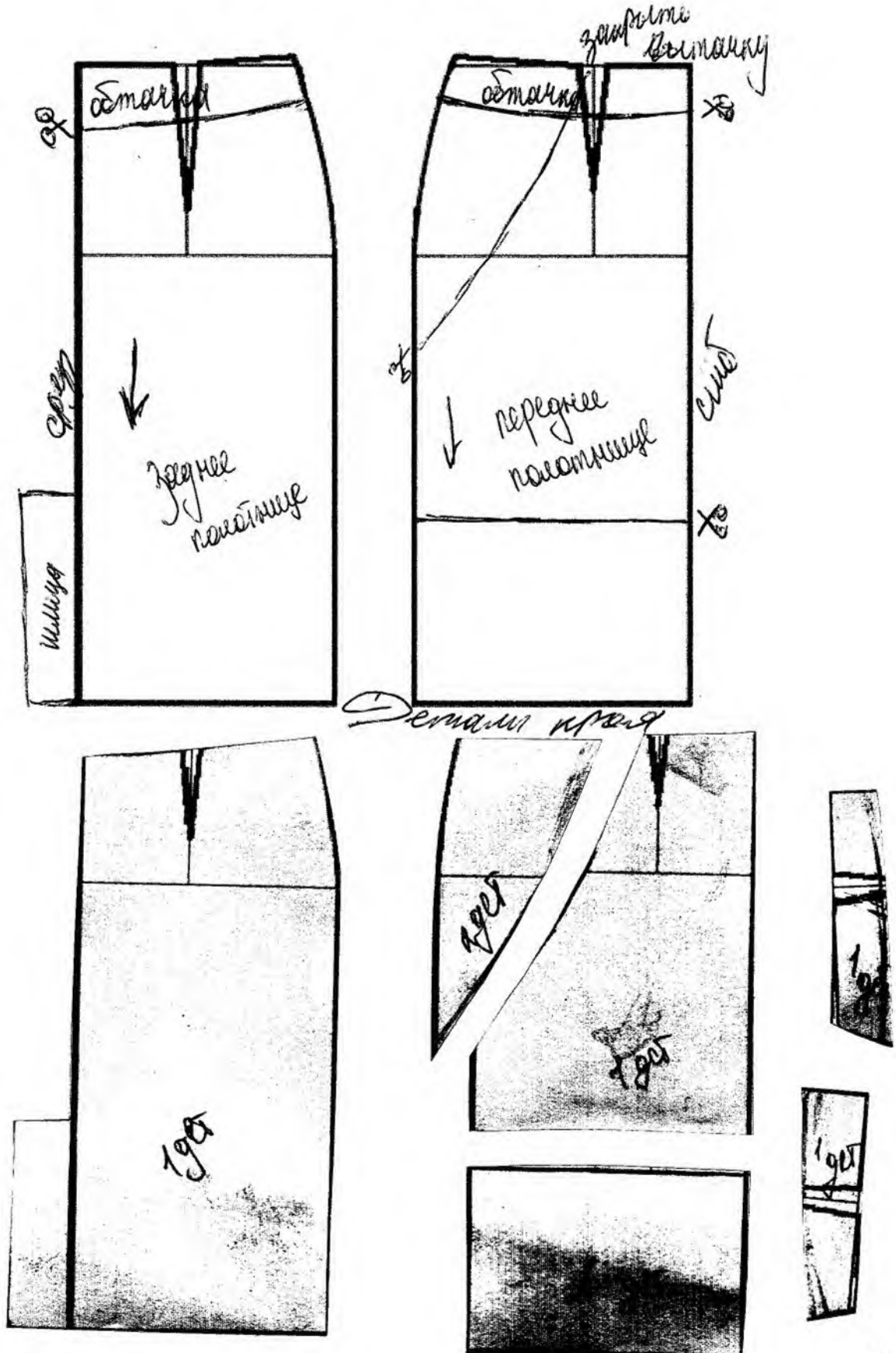
Шифр участника 7h-24

Результаты моделирования




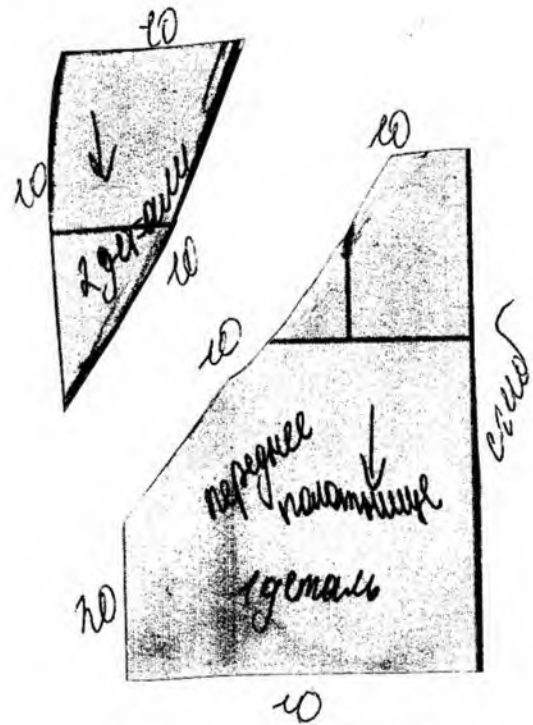
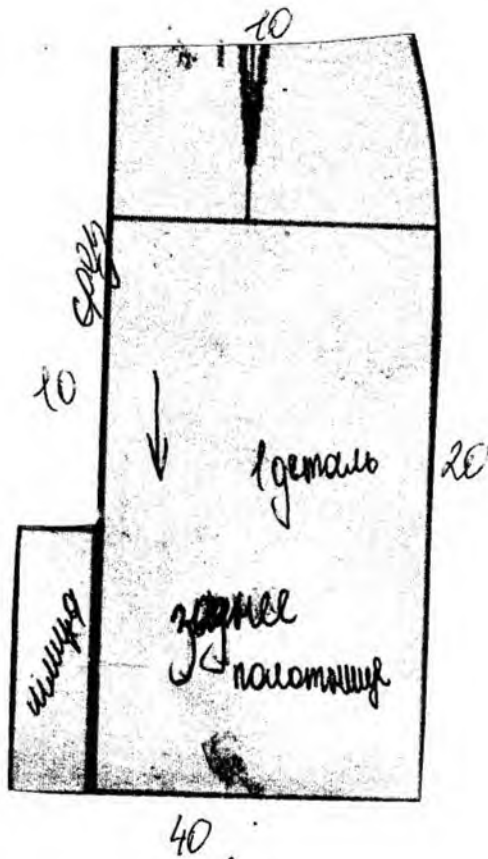
Шифр участника TD-33

### Нанесение линий фасона



Шифр участника 74 - 33

Результаты моделирования



## ПРОТОКОЛ ЗАСЕДАНИЯ ЖЮРИ


Дата проведения 7-8 декабря 2017г.  
 Предмет Технология (девушки)  
 Класс 7  
 Количество участников 13


№ п/п	Шифр участника	ФИО (полностью)	Образовательное учреждение	Общее количество баллов	% выполнения заданий	Место	ФИО учителя
1	ТД-09	Шишелова Анна Владимировна	Муниципальное бюджетное общеобразовательное учреждение "Средняя общеобразовательная школа №4"	89	77,4%	Победитель	Коол Елена Александровна
2	ТД-02	Ермолаева Анастасия Павловна	Муниципальное бюджетное общеобразовательное учреждение «Средняя общеобразовательная школа №1 имени Созонова	83	72,2%	Призер	Коршунова Валентина Викторовна
3	ТД-06	Карташева Полина Евгеньевна	Муниципальное бюджетное общеобразовательное учреждение «Средняя общеобразовательная школа №1 имени Созонова	79	68,7%	Призер	Коршунова Валентина Викторовна
4	ТД-10	Мамалыга Ангелина Игоревна	Муниципальное бюджетное общеобразовательное учреждение "Средняя общеобразовательная школа №4"	77	67,0%		Коол Елена Александровна
5	ТД-03	Ханнанова Лина Рамильевна	Муниципальное бюджетное общеобразовательное учреждение «Средняя общеобразовательная школа №8»	76	66,1%		Молякко Елена Сергеевна
6	ТД-07	Крылова Екатерина Константиновна	Муниципальное бюджетное общеобразовательное учреждение «Средняя общеобразовательная школа №1 имени Созонова	69	60,0%		Коршунова Валентина Викторовна
7	ТД-08	Хорошева Юлия Александровна	Муниципальное бюджетное общеобразовательное учреждение «Средняя общеобразовательная школа №1 имени Созонова	68	59,1%		Коршунова Валентина Викторовна
8	ТД-04	Ковалёва Екатерина Олеговна	муниципальная бюджетная образовательная организация «Средняя общеобразовательная школа №7»	67,5	58,7%		Косачева Татьяна Семеновна
9	ТД-11	Зяблищева Екатерина Юрьевна	Муниципальное бюджетное общеобразовательное учреждение «Средняя общеобразовательная школа №5»	64	55,7%		Мишина Юлия Викторовна
10	ТД-05	Середа Виктория Владимировна	муниципальная бюджетная образовательная организация «Средняя общеобразовательная школа №7»	62,5	54,3%		Косачева Татьяна Семеновна
11	ТД-13	Хамракулова Мадина Акрамовна	Муниципальное бюджетное общеобразовательное учреждение «Средняя общеобразовательная школа №5»	53	46,1%		Мишина Юлия Викторовна
12	ТД-12	Савельева Карина Борисовна	Муниципальное бюджетное общеобразовательное учреждение «Средняя общеобразовательная школа №5»	52	45,2%		Мишина Юлия Викторовна
13	ТД-01	Неупокоева Евгения Владимировна	Муниципальное бюджетное общеобразовательное учреждение «Средняя общеобразовательная школа № 2»	10	8,7%		Яковлева Юлия Владимировна

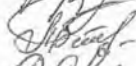
Дата подписания протокола

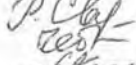
Председатель жюри


Члены жюри


  
 Мороз Н.А.

  
 Коршунова В.В.

  
 Войнова Т.П.

  
 Свиркова Р.В.

  
 Чебыкина Ю.В.

  
 Коол Е.А.

## ПРОТОКОЛ ЗАСЕДАНИЯ ЖЮРИ


Дата проведения 7-8 декабря 2017г.  
 Предмет Технология (девушки)  
 Класс 8  
 Количество участников 13


№ п/п	Шифр участника	ФИО (полностью)	Образовательное учреждение	Общее количество баллов	% выполнения заданий	Место	ФИО учителя
1	ТД-21	Корепанова Алена Евгеньевна	Муниципальное бюджетное общеобразовательное учреждение «Средняя общеобразовательная школа №1 имени Созонова Ю.Г.»	86	68,8%	Победитель	Коршунова Валентина Викторовна
2	ТД-19	Селянина Татьяна Евгеньевна	Муниципальное бюджетное общеобразовательное учреждение "Средняя общеобразовательная школа №4"	84	67,2%	Призер	Коол Елена Александровна
3	ТД-24	Гостева Полина Александровна	Муниципальное бюджетное общеобразовательное учреждение "Средняя общеобразовательная школа №4"	77	61,6%	Призер	Коол Елена Александровна
4	ТД-18	Костина Виктория Витальевна	Муниципальное бюджетное общеобразовательное учреждение «Средняя общеобразовательная школа №1 имени Созонова Ю.Г.»	73	58,4%		Коршунова Валентина Викторовна
5	ТД-20	Бродникова Полина Николаевна	муниципальная бюджетная образовательная организация «Средняя общеобразовательная школа №7»	72	57,6%		Косачева Татьяна Семеновна
6	ТД-23	Майструк Диана Владимировна	Муниципальное бюджетное общеобразовательное учреждение "Средняя общеобразовательная школа №4"	69	55,2%		Коол Елена Александровна
7	ТД-26	Тихон Анастасия Владимировна	Муниципальное бюджетное общеобразовательное учреждение «Средняя общеобразовательная школа №1 имени Созонова Ю.Г.»	67	53,6%		Коршунова Валентина Викторовна
8	ТД-15	Лозинская Виктория Васильевна	Муниципальное бюджетное общеобразовательное учреждение «Средняя общеобразовательная школа №5»	66	52,8%		Мишина Юлия Викторовна
9	ТД-16	Куроедова Вероника Витальевна	Муниципальное бюджетное общеобразовательное учреждение «Средняя общеобразовательная школа № 8»	64	51,2%		Безверхняя Ольга Анатольевна
10	ТД-17	Михайлик Анастасия Алексеевна	Муниципальное бюджетное общеобразовательное учреждение «Средняя общеобразовательная школа №1 имени Созонова Ю.Г.»	52	41,6%		Коршунова Валентина Викторовна
11	ТД-22	Шурмилова София Васильевна	муниципальная бюджетная образовательная организация «Средняя общеобразовательная школа №7»	41	32,8%		Косачева Татьяна Семеновна
12	ТД-25	Кривошеева Наталия Юрьевна	Муниципальное бюджетное общеобразовательное учреждение «Средняя общеобразовательная школа №1 имени Созонова Ю.Г.»	32	25,6%		Коршунова Валентина Викторовна
13	ТД-14	Полуянова Анастасия Дмитриевна	Муниципальное бюджетное общеобразовательное учреждение «Средняя общеобразовательная школа № 2»	4	3,2%		Яковлева Юлия Владимировна

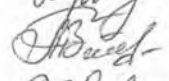
Дата подписания протокола

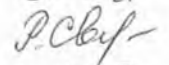
Председатель жюри

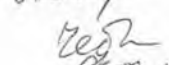
Члены жюри

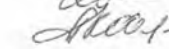

 Мороз Н.А.


 Коршунова В.В.


 Войнова Т.П.


 Свиркова Р.В.


 Чебыкина Ю.В.


 Коол Е.А.



ПРОТОКОЛ ЗАСЕДАНИЯ ЖЮРИ

Дата проведения 7-8 декабря 2017г.  
 Предмет Технология (девушки)  
 Класс 9  
 Количество участников 8

№ п/п	Шифр участника	ФИО (полностью)	Образовательное учреждение	Общее количество баллов	% выполнения заданий	Место	ФИО учителя
1	ТД-27	Чебыкина Дарья Алексеевна	Муниципальное бюджетное общеобразовательное учреждение «Гимназия № 1»	88	70,4%	Победитель	Чебыкина Юлия Валерьевна
2	ТД-32	Еранкина Анастасия Андреевна	Муниципальное бюджетное общеобразовательное учреждение «Средняя общеобразовательная школа №1 имени Созонова Ю.Г.»	86	68,8%	Призер	Коршунова Валентина Викторовна
3	ТД-33	Шелехова Анна Артёмовна	МБОУ «Средняя общеобразовательная школа с углубленным изучением отдельных предметов №3»	84	67,2%	Призер	Войнова Татьяна Павловна
4	ТД-34	Гундерчук Анастасия Валерьевна	МБОУ «Средняя общеобразовательная школа с углубленным изучением отдельных предметов №3»	75	60,0%		Войнова Татьяна Павловна
5	ТД-30	Кашина-Просолова Емилия Вячеславовна	МБОУ «Средняя общеобразовательная школа с углубленным изучением отдельных предметов №3»	71	56,8%		Войнова Татьяна Павловна
6	ТД-29	Кондратенко Анастасия Васильевна	Муниципальное бюджетное общеобразовательное учреждение «Средняя общеобразовательная школа №5»	70	56,0%		Мишина Юлия Викторовна
7	ТД-31	Юмашева Полина Рустамовна	Муниципальное бюджетное общеобразовательное учреждение «Средняя общеобразовательная школа №2»	70	56,0%		Яковлева Юлия Владимировна
8	ТД-28	Задкова Александра Евгеньевна	Муниципальное бюджетное общеобразовательное учреждение «Средняя общеобразовательная школа №5»	56	44,8%		Мишина Юлия Викторовна

Дата подписания протокола

Председатель жюри

Члены жюри

Мороз Н.А.

Коршунова В.В.

Войнова Т.П.

Свиркова Р.В.

Чебыкина Ю.В.

Коол Е.А.